

Løsningsforslag kjemidel eksamen

IFYKJ Fysikk/kjemi

Vår 2020

Oppgave 1

Data for grunnstoff

Grunnstoff	Atomnummer	Symbol	Masse-tetthet (ved 0 °C) kg/m ³	Smeltepunkt °C	Kokepunkt °C	Spesif. varmekap. J/(kg · K)	Lengde-utvid.-koeff. K ⁻¹	Spesif. smeltevarme kJ/kg	Elektro-negativitet
Fermium	100	Fm							
Fluor	9	F	1,696	-220	-184				4,0
Fosfor	15	P	1 820	44	280	757			2,1
Holmium	67	Ho	8 795	1 474	2 695	164			
Hydrogen	1	H	0,090	-259	-252				2,1
Indium	49	In	7 290	156	2 080	236			1,7
Iridium	77	Ir	22 420	2 410	4 130	130	$0,7 \cdot 10^{-5}$		2,2
Magnesium	12	Mg	1 738	648	1 090	1 017	$2,5 \cdot 10^{-5}$	201	1,0
Mangan	25	Mn	7 473	1 244	1 962	477	$2,2 \cdot 10^{-5}$		1,5
Mendelevium	101	Md							
Molybden	42	Mo	10 222	2 617	4 612	251	$0,5 \cdot 10^{-5}$		1,8
Natrium	11	Na	966	97	900	1 226	$7,0 \cdot 10^{-5}$		0,9
Neodym	60	Nd	7 000	1 021	3 068	189			
Neon	10	Ne	0,900	-248	-246				
Oksygen	8	O	1,429	-218	-182				3,5
Osmium	76	Os	22 570	3 045	5 027	130	$0,5 \cdot 10^{-5}$		2,2
Palladium	46	Pd	11 995	1 552	3 140	244			2,2
Platina	78	Pt	21 450	1 772	3 827	134	$0,9 \cdot 10^{-5}$	113	2,2
Titan	22	Ti	4 508	1 660	3 287	523	$0,9 \cdot 10^{-5}$		1,6

i) Hvor mange protoner er det i ^{21}Ne ?

10

11

21

31

41

Atomnummer: $Z = 10$

Antall protoner = 10

ii) En isotop av et grunnstoff inneholder 12 protoner og 13 nøytroner. Hva er symbolet for isotopen på formen $^A_Z X$?



Antall protoner = 12, atomnummer, $Z = 12$

Nukleontall, $A = 12 + 13 = 25$



iii) Hvilken type binding vil du forvente å finne mellom oksygen og hydrogen i vannmolekylet?

Polar kovalent binding

Upolar kovalent binding

Ionebinding

Metallbinding

Binding mellom to ikke-metaller: kovalent binding

$$\Delta EN = EN(\text{O}) - EN(\text{H}) = 3,5 - 2,2 = 1,3$$

Polar kovalent binding

iv) Hvilken type binding vil du forvente å finne mellom titan og fluor i TiF_3 ?

Upolar kovalent binding

Polar kovalent binding

Ionebinding

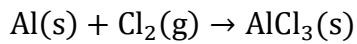
Metallbinding

Binding mellom metall og ikke-metall: ionebinding.

$$\Delta EN = EN(\text{Ti}) - EN(\text{F}) = 4,0 - 1,6 = 2,4$$

Oppgave 2

Gitt følgende ubalanserte reaksjonsligning:



7,5 g Al reagerer med 25,0 g Cl₂ og det dannes 25,0 g AlCl₃.

Hva er prosentvis utbytte av AlCl₃?

Balansert reaksjonsligning: $2\text{Al(s)} + 3\text{Cl}_2(\text{g}) \rightarrow 2\text{AlCl}_3(\text{s})$

$$n_{\text{Al}} = \frac{m_{\text{Al}}}{M_{\text{Al}}} = \frac{7,5 \text{ g}}{26,98 \text{ g/mol}} = 0,278 \text{ mol}$$

$$n_{\text{Cl}_2} = \frac{m_{\text{Cl}_2}}{M_{\text{Cl}_2}} = \frac{25,0 \text{ g}}{70,9 \text{ g/mol}} = 0,353 \text{ mol}$$

Hvis alt Al reagerer:

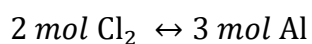


$$\frac{n_{\text{Cl}_2}}{n_{\text{Al}}} = \frac{3}{2}$$

$$n_{\text{Cl}_2} = \frac{3}{2} n_{\text{Al}} = \frac{3}{2} \times 0,278 \text{ mol} = 0,417 \text{ mol}$$

Hvis alt Al reagerer trengs 0,417 mol Cl₂.

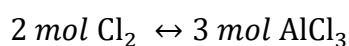
Hvis alt Cl₂ reagerer:



$$\frac{n_{\text{Al}}}{n_{\text{Cl}_2}} = \frac{2}{3}$$

$$n_{\text{Al}} = \frac{2}{3} n_{\text{Cl}_2} = \frac{2}{3} \times 0,353 \text{ mol} = 0,235 \text{ mol}$$

Cl₂ begrensende reaktant.



$$n_{\text{AlCl}_3} = \frac{2}{3} n_{\text{Cl}_2} = \frac{2}{3} \times 0,353 \text{ mol} = 0,235 \text{ mol}$$

$$m_{\text{AlCl}_3} = M_{\text{AlCl}_3} \times n_{\text{AlCl}_3} = 133,33 \text{ g/mol} \times 0,235 \text{ mol} = 31,3 \text{ g}$$

Teoretisk utbytte AlCl_3 : 31,3 g

Prosentvis utbytte: $\frac{25,0 \text{ g}}{31,3 \text{ g}} \times 100\% = \mathbf{80\%}$

Oppgave 3

25,0 g vann plasseres i en tom, lukket beholder ved 25°C. Anta at trykket i den tomme beholderen er 0 før tilsetning av vann. Beholderen har et volum på 20,0 L. Beholderen varmes opp til 150°C, og vi antar at alt vann nå er i gassform. Hva er trykket i beholderen?

2,41 atm

2440 Pa

2440 torr

0,866 bar

$$n_{\text{H}_2\text{O}} = \frac{m_{\text{H}_2\text{O}}}{M_{\text{H}_2\text{O}}}$$

$$pV = nRT$$

$$p = \frac{nRT}{V} = \frac{m_{\text{H}_2\text{O}}RT}{M_{\text{H}_2\text{O}}V} = \frac{25,0 \text{ g} \times 0,082057 \text{ Latm/Kmol} \times (25 + 273) \text{ K}}{18,016 \text{ g/mol} \times 20,0 \text{ L}} = \mathbf{2,41 \text{ atm}}$$

Oppgave 4

Hvor mange gram $\text{CaCl}_2(\text{s})$ trengs for å lage 7,5 L av en 0,330 mol/L CaCl_2 -løsning?

$2,7 \times 10^2 \text{ g}$

$1,4 \times 10^2 \text{ g}$

$5,5 \times 10^2 \text{ g}$

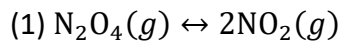
$2,5 \times 10^3 \text{ g}$

$$n_{\text{CaCl}_2} = c \times V = 0,330 \text{ mol/L} \times 7,5 \text{ L} = 2,475 \text{ mol}$$

$$m_{\text{CaCl}_2} = M_{\text{CaCl}_2} \times n_{\text{CaCl}_2} = 110,98 \text{ g/mol} \times 2,475 \text{ mol} = \mathbf{2,7 \times 10^2 \text{ g}}$$

Oppgave 5

Gitt følgende likevektsreaksjon:



i) 2,00 mol dinitrogentetraoksid (N_2O_4) tilsettes en tom beholder på 5,00 L, og beholderen varmes opp til 134°C . Ved likevekt blir konsentrasjonen av nitrogendioksid (NO_2) målt til 0,525 mol/L. Hva er konsentrasjonen av N_2O_4 ved likevekt?

0,1375 mol/L

0,2625 mol/L

0,4000 mol/L

0,525 mol/L

$$[\text{N}_2\text{O}_4] = \frac{n_{\text{N}_2\text{O}_4}}{V} = \frac{2,00 \text{ mol}}{5,00 \text{ L}} = 0,400 \text{ mol/L}$$

Setter opp likevektstabell

	$\text{N}_2\text{O}_4(g) \leftrightarrow 2\text{NO}_2(g)$	
Ved start	0,400	0
Endring	-x	2x
Ved likevekt	0,400-x	2x = 0,525

$$x = \frac{0,525}{2} = 0,2625$$

Likevektskonsentrasjon av N_2O_4 :

$$[\text{N}_2\text{O}_4] = 0,400 - x = 0,400 - 0,2625 = \mathbf{0,1375 \text{ mol/L}}$$

ii) I et annet forsøk ved 773°C tilsettes N_2O_4 til en tom beholder og likevektskonsentrasjonen av N_2O_4 blir målt til 0,0114 mol/L og likevektskonsentrasjonen av NO_2 blir målt til 0,0770 mol/L. Hva blir likevektskonstanten for for likevektsreaksjonen ved 773°C ?

0,520

0,148

1,92

6,75

$$K = \frac{[NO_2]^2}{[N_2O_4]} = \frac{0,0770^2}{0,0114} = \mathbf{0,520}$$

iii) I hvilken retning vil likevektsreaksjonen (1) forskyves slik den er skrevet opp i denne oppgaven hvis trykket øker?

Mot venstre

Mot høyre

Ingen forskyvning

Ved økt trykk vil likevekten forskyves i den retningen det er færrest gassmolekyler, og det er mot venstre slik likevektsreaksjonen (1) er skrevet opp.

Oppgave 6

Løselighetstabell (vann) ved 25 °C

U = uløselig. Det løses mindre enn 0,01 g av saltet i 100 g vann.

T = tungtløselig. Det løses mellom 0,01 og 1 g av saltet i 100 g vann.

L = lettløselig. Det løses mer enn 1 g av saltet per 100 g vann.

R = reagerer med vann.

- = Ukjent forbindelse, eller forbindelse dannes ikke ved utfelling.

	Br ⁻	Cl ⁻	CO ₃ ²⁻	CrO ₄ ²⁻	I ⁻	O ²⁻	OH ⁻	S ²⁻	SO ₄ ²⁻
Ag ⁺	U	U	U	U	U	U	-	U	T
Al ³⁺	R	R	-	-	R	U	U	R	R
Ba ²⁺	L	L	U	U	L	R	L	T	U
Ca ²⁺	L	L	U	T	L	T	U	T	T
Cu ²⁺	L	L	-	U	-	U	U	U	L
Fe ²⁺	L	L	U	U	L	U	U	U	L
Fe ³⁺	R	R	-	U	-	U	U	U	L
Hg ₂ ²⁺	U	U	U	U	U	-	U	-	U
Hg ²⁺	T	L	-	U	U	U	U	U	R
Mg ²⁺	L	L	U	L	L	U	U	R	L
Ni ²⁺	L	L	U	U	L	U	U	U	L
Pb ²⁺	T	T	U	U	U	U	U	U	U
Sn ²⁺	R	R	U	-	R	U	U	U	R
Sn ⁴⁺	R	R	-	L	R	U	U	U	R
Zn ²⁺	L	L	U	U	L	U	U	U	L

Vi ønsker å felle ut det tungtløselige stoffet BaSO₄ ved 25°C. Vi har tilgjengelig følgende lettløselige salter i fast form: BaI₂(s), Ba(OH)₂(s), FeSO₄(s) og CuSO₄(s). Hvilke to stoffer er det mest hensiktsmessig å løse i vann for å lage et rent produkt av BaSO₄(s).

Bruk tabellen «Løselighetstabell (vann) ved 25°C» i vedlegget for å avgjøre dette.

Det er mest hensiktsmessig å bruke BaI₂(s) og FeSO₄(s)

Det er mest hensiktsmessig å bruke BaI₂(s) og CuSO₄(s)

Det er mest hensiktsmessig å bruke Ba(OH)₂(s) og FeSO₄(s)

Det er mest hensiktsmessig å bruke Ba(OH)₂(s) og CuSO₄(s)

Ingen av alternativene vil gi oss det produktet vi er ute etter.

BaI₂(s) og FeSO₄(s) kan føre til utfelling av BaSO₄(s), og FeI₂ er lettløselig i følge tabellen. Denne kombinasjonen egner seg derfor.

BaI₂(s) og CuSO₄(s) kan føre til utfelling av BaSO₄(s) og CuI₂(s). Det er oppgitt at løseligheten til CuI₂(s) er ukjent, og denne kombinasjonen egner seg derfor ikke når løseligheten til CuI₂(s) er ukjent.

Ba(OH)₂(s) og FeSO₄(s) kan føre til utfelling av BaSO₄(s) og Fe(OH)₂(s). Begge er uløselige i følge tabellen, og denne kombinasjonen egner seg derfor ikke.

Ba(OH)₂(s) og CuSO₄(s) kan føre til utfelling av BaSO₄(s) og Cu(OH)₂(s). Begge er uløselige i følge tabellen, og denne kombinasjonen egner seg derfor ikke.

ii) Vi ønsker å løse opp så mye PbCl₂ i vann som mulig. Hva vil konsentrasjonen av Cl⁻ ioner være når vi har oppnådd mettet løsning ved 25°C?

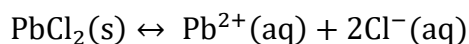
Løselighetsproduktet, K_{sp}, for PbCl₂: 2,3x10⁻⁴

0,077 mol/L

0,00023 mol/L

0,039 mol/L

0,39 mol/L



Setter opp løselighetstabell:

	PbCl ₂ (s)	Pb ²⁺ (aq)	2Cl ⁻ (aq)
Ved start	-	0	0
Endring	-	x	2x
Ved likevekt	-	x	2x

$$K_{sp} = [\text{Pb}^{2+}][\text{Cl}^{-}]^2 = x \times (2x)^2 = 2,3 \times 10^{-4}$$

$$4x^3 = 2,3 \times 10^{-4}$$

$$x = \left(\frac{2,3 \times 10^{-4}}{4} \right)^{\frac{1}{3}} = 0,0386$$

$$[\text{Cl}^{-}] = 2x = 2 \times 0,0386 \text{ mol/l} = \mathbf{0,077 \text{ mol/L}}$$

Oppgave 7

Beregn pH i en $8,7 \times 10^{-5}$ M KOH-løsning ved 25°C.

9,94

3,76

4,06

8,63

10,24

KOH er en sterk base: $\text{KOH}(\text{aq}) \rightarrow \text{K}^+(\text{aq}) + \text{OH}^-(\text{aq})$

$$[\text{OH}^-] = [\text{KOH}] = 8,7 \times 10^{-5} \text{ mol/L}$$

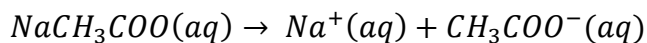
$$[\text{H}^+][\text{OH}^-] = 10^{-14}$$

$$[\text{H}^+] = \frac{10^{-14}}{[\text{OH}^-]} = \frac{10^{-14}}{8,7 \times 10^{-5}} = 1,15 \times 10^{-10} \text{ mol/L}$$

$$\text{pH} = -\log[\text{H}^+] = -\log(1,15 \times 10^{-10}) = \mathbf{9,94}$$

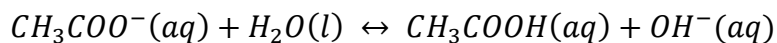
Oppgave 8

i) Avgjør om løsningen blir sur, nøytral eller basisk når den ioniske forbindelsen NaCH_3COO løses i vann. Begrunn svaret og vis med reaksjonsligninger.



Na^+ påvirker ikke pH

CH_3COO^- er korresponderende base til CH_3COOH :



Dette gir en basisk løsning

ii)

Beregn pH i en 0,80 M CH_3COONa -løsning ved 25°C .

$$K_b = \frac{10^{-14}}{K_a} = \frac{10^{-14}}{1,8 \times 10^{-5}} = 5,56 \times 10^{-10}$$

	$\text{CH}_3\text{COO}^-(\text{aq}) + \text{H}_2\text{O}(\text{l}) \leftrightarrow \text{CH}_3\text{COOH}(\text{aq}) + \text{OH}^-(\text{aq})$			
Ved start	0,80	-	0	0
Endring	-x	-	x	x
Ved likevekt	0,80 - x	-	x	x

$$K_b = \frac{[\text{CH}_3\text{COOH}][\text{OH}^-]}{[\text{CH}_3\text{COO}^-]} = \frac{x^2}{0,80 - x} = 5,56 \times 10^{-10}$$

$$x^2 + 5,56 \times 10^{-10}x - 4,45 \times 10^{-10} = 0$$

$$x = 2,11 \times 10^{-5}$$

$$[\text{OH}^-] = 2,11 \times 10^{-5} \text{ mol/L}$$

$$[\text{H}^+] = \frac{10^{-14}}{2,11 \times 10^{-5}} = 4,74 \times 10^{-10}$$

$$\text{pH} = -\log([\text{H}^+]) = -\log(4,74 \times 10^{-10}) = 9,32$$

$$\mathbf{pH = 9,32}$$

Felles mekanikkdel

Oppgave 9

Definisjonen av gjennomsnittsfart som

$$\bar{v} = \frac{\text{tilbakelangt strekning}}{\text{tid}},$$

og dessuten at ved konstant fart v er tiden t gitt ved

$$t = \frac{s}{v},$$

gir at

$$\begin{aligned}\bar{v} &= \frac{50 \text{ km} + 160 \text{ km}}{\frac{50 \text{ km}}{50 \text{ km/h}} + \frac{160 \text{ km}}{80 \text{ km/h}}} \\ &= \frac{210 \text{ km}}{3 \text{ h}} \\ &= \underline{\underline{70 \text{ km/h}}}\end{aligned}$$

Oppgave 10

La kulas posisjon være y_1 ved $t = \Delta t$, og y_2 ved $t = 2\Delta t$. Etersom kula starter i ro i $y_0 = 0$ ved $t = 0$ får vi

$$\begin{aligned}\Delta y_1 &= y_1 - y_0 \\ &= \frac{1}{2}g(\Delta t)^2\end{aligned}$$

I det neste tidsintervallet faller kula en strekning Δy_2 som blir

$$\begin{aligned}\Delta y_2 &= y_2 - y_1 \\ &= \frac{1}{2}g(2\Delta t)^2 - \frac{1}{2}g(\Delta t)^2 \\ &= 4 \cdot \frac{1}{2}g(\Delta t)^2 - \frac{1}{2}g(\Delta t)^2 \\ &= \underline{\underline{3 \cdot \frac{1}{2}g(\Delta t)^2}}\end{aligned}$$

Dette gir at

$$\frac{\Delta y_2}{\Delta y_1} = \frac{3 \cdot \frac{1}{2}g(\Delta t)^2}{\frac{1}{2}g(\Delta t)^2} = \underline{\underline{3}}$$

Oppgave 11

i) I det høyeste punktet i banen er farten \vec{v} horisontal ($v_y = 0$), sånn at farten i det høyeste punktet blir lik horisontalkomponenten v_{0x} av startfarten:

$$\begin{aligned}v &= v_{0x} \\ &= v_0 \cos \alpha \\ &= 10 \text{ m/s} \cdot \cos 25^\circ \\ &= \underline{\underline{8,2 \text{ m/s}}}\end{aligned}$$

ii) Finner først falltiden t (velger positiv retning oppover):

$$y = v_{0y}t - \frac{1}{2}gt^2$$

$$y = v_0 \sin \alpha \cdot t - \frac{1}{2}gt^2$$

$$-1,0 = 10 \sin 35^\circ \cdot t - \frac{1}{2} \cdot 9,81 \cdot t^2 \quad (\text{Sløyfer enheter})$$

Denne andregradslikninga har løsningen

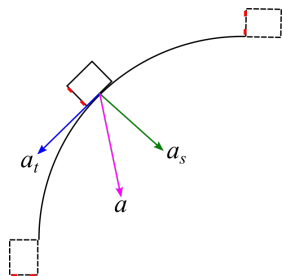
$$t = 1,32 \text{ s,}$$

som gir at

$$\begin{aligned} x &= v_{0x}t \\ &= v_0 \cos \alpha \cdot t \\ &= 10 \text{ m/s} \cos 35^\circ \cdot 1,32 \text{ s} \\ &= 10,8 \text{ m} \\ &\approx \underline{\underline{11 \text{ m}}} \end{aligned}$$

Oppgave 12

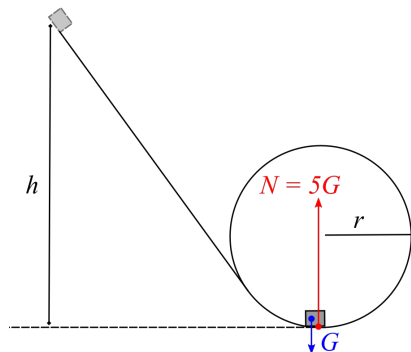
Figuren under viser komponentene til akselerasjonen \vec{a} for bilen idet den kjører gjennom svingen med avtakende banefart: sentripetalakselerasjonen \vec{a}_r (pga. sirkelbevegelsen) og tangentialakselerasjonen \vec{a}_t , fordi banefarten avtar.



Akselerasjonen får altså retningen vist på figuren.

Oppgave 13

Skal bestemme den største høyden h vogna kan slippes fra for at normalkrafta i det laveste punktet skal bli maksimalt $5G$, slik figuren under viser.



I det laveste punktet gir Newtons 2. lov følgende restriksjon på farten v i det laveste punktet:

$$\begin{aligned}\sum F &= ma \\ N - G &= m \frac{v^2}{r} \\ 5G - G &= m \frac{v^2}{r} && \text{(Grensetilfellet)} \\ 4mg &= m \frac{v^2}{r} \\ v^2 &= \underline{4gr}\end{aligned}$$

Energibevaring mellom slippunktet i høyde h og det laveste punktet gir

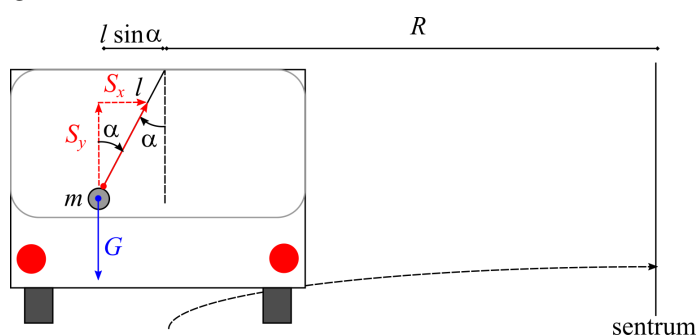
$$mgh = \frac{1}{2}mv^2 \Rightarrow v^2 = \underline{2gh}$$

Sammeholdt gir dette følgende verdi for den maksimale sliphøyden h :

$$4gr = 2gh \Rightarrow h = \underline{\underline{2r}}$$

Oppgave 14

Figuren under viser kreftene som virker på kula som henger i snora: snordraget S og tyngden G .



Kula er i ro i vertikalretningen, sånn at

$$\begin{aligned}\sum F_y &= 0 \\ S_y &= mg\end{aligned}$$

Newtons 2. lov i x -retningen gir

$$\begin{aligned}\sum F_x &= ma \\ S_x &= m \frac{v^2}{r},\end{aligned}$$

der $r = R + l \sin \alpha$ (som er radiusen for kulas sirkelbevegelse). Sammenhengen mellom S_x og S_y vises fra figuren:

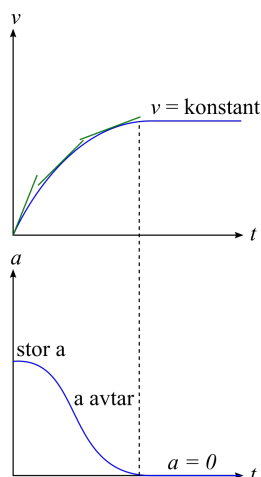
$$\begin{aligned}S_x &= S_y \tan \alpha \\ &= \underline{mg \tan \alpha} && \text{(Ettersom } S_y = mg\text{)}\end{aligned}$$

Kombinerer dette og får

$$\begin{aligned}
 S_x &= m \frac{v^2}{r} \\
 mg \tan \alpha &= m \frac{v^2}{r} \\
 v^2 &= gr \tan \alpha \\
 v &= \sqrt{gr \tan \alpha} \\
 &= \underline{\underline{\sqrt{g(R + l \sin \alpha) \tan \alpha}}}
 \end{aligned}$$

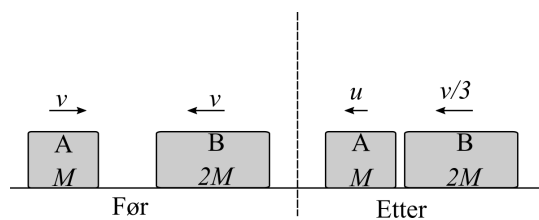
Oppgave 15

Akselerasjonen på et tidspunkt er stigningstallet til fartsgrafene. Bilens fartsgraf viser at bilen starter med full gass og stor akselerasjon (grafene stiger bratt i starten), og så avtar farten mer og mer til den når en maksimal fart. Figuren under viser hvilken graf som er i tråd med denne situasjonen.



Oppgave 16

Figuren under viser kollisjonen:



Skal finne slutfarten u til den letteste steinen. Bevaring av bevegelsesmengde gir (velger positiv

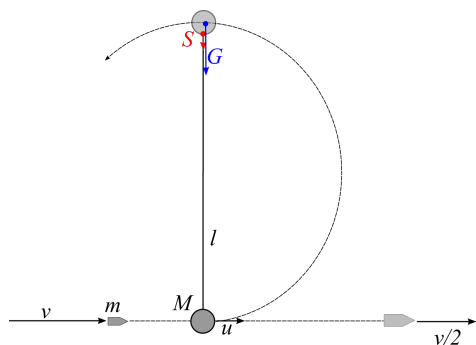
retning mot høyre):

$$\begin{aligned}\sum p_{f\phi r} &= \sum p_{etter} \\ Mv + 2M(-v) &= Mu + 2M \cdot \left(-\frac{v}{3}\right) \\ -Mv &= Mu - \frac{2}{3}Mv \\ -v &= u - \frac{2}{3}v \\ u &= -v + \frac{2}{3}v \\ u &= \underline{\underline{-\frac{v}{3}}}\end{aligned}$$

Minustegnet signaliserer at steinen beveger seg mot venstre.

Oppgave 17

Figuren under viser situasjonen når prosjektilet treffer pendelkula, som svinger gjennom en hel sirkel:



Pendelkula får farten u etter støtet med prosjektilet. Her er bevegelsesmengden bevart:

$$\begin{aligned}\sum p_{f\phi r} &= \sum p_{etter} \\ mv &= m \cdot \frac{v}{2} + Mu \\ u &= \frac{mv - \frac{1}{2}mv}{M} \\ u &= \underline{\underline{\frac{m}{2M}v}}\end{aligned}$$

I tilfellet der kula akkurat fullfører en hel sirkel, er snordraget på toppen lik null. Hvis u_t er farten til kula på toppen, gir Newtons 2. lov

$$\begin{aligned}S + G &= m \frac{u_t^2}{l} && \text{(Radius er } l) \\ mg &= m \frac{u_t^2}{l} && \text{(Når } S = 0) \\ u_t^2 &= \underline{\underline{gl}}\end{aligned}$$

Energibevaring for pendelkula mellom punktet like etter kollisjonen, og toppunktet gir da:

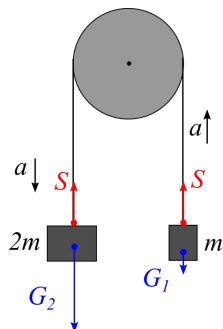
$$\begin{aligned}\frac{1}{2}Mu^2 &= Mgh + \frac{1}{2}Mu_t^2 && \text{(Her er } h = 2l) \\ \frac{1}{2}Mu^2 &= Mg \cdot 2l + \frac{1}{2}M \cdot gl \\ \frac{1}{2}u^2 &= \frac{5}{2}gl \\ u^2 &= \underline{5gl}\end{aligned}$$

Dette gir følgende betingelse på farten v for prosjektilet for at pendelkula skal fullføre en hel sirkel:

$$\begin{aligned}u^2 &= 5gl \\ \left(\frac{m}{2M}v\right)^2 &= 5gl && \text{(Fra bevaring av bev. mengde)} \\ \frac{m}{2M}v &= \sqrt{5gl} \\ v &= \underline{\underline{2\frac{M}{m}\sqrt{5gl}}}\end{aligned}$$

Oppgave 18

i) Figuren under viser kreftene på loddene i situasjonen der trinsa og snora begge er masseløse:



Det samme snordraget S virker i hver ende av den masseløse snora, i tillegg til tyngdene $G_1 = mg$ og $G_2 = 2mg$ på hver kloss. Absoluttverdien til akselerasjonen til klossene vil være den samme, så Newtons 2. lov på hver kloss gir:

$$\begin{aligned}\sum F_1 &= ma \\ S - G_1 &= ma \\ S - mg &= ma \Rightarrow S = \underline{ma + mg}\end{aligned}$$

$$\begin{aligned}\sum F_2 &= 2m \cdot a \\ G_2 - S &= 2m \cdot a \\ 2mg - S &= 2m \cdot a\end{aligned}$$

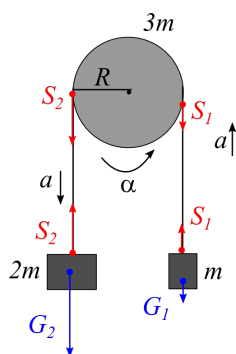
Kombinerer disse to likningene ved å sette inn for S :

$$\begin{aligned} 2mg - S &= 2m \cdot a \\ 2mg - (ma + mg) &= 2ma \\ 2mg - ma - mg &= 2ma \\ 3ma &= mg \\ a &= \underline{\underline{\frac{g}{3}}} \end{aligned}$$

Krav til full uttelling på oppgaven (maks. 5 poeng):

- Figur med inntegnede krefter på klossene (1 poeng)
- Sette opp Newtons 2. lov på hver av de to klossene (2 poeng)
- Kombinere likningene for klossene og finne akselerasjonen (2 poeng)

ii) Figuren under viser situasjonen der trinsa har masse $3m$ og radius r :



Nå virker det forskjellige snordrag S_1 og S_2 i hver ende av den masseløse snora. Newtons 2. lov på hver kloss gir:

$$\begin{aligned} \sum F_1 &= ma \\ S_1 - G_1 &= ma \\ S_1 - mg &= ma \end{aligned}$$

$$\begin{aligned} \sum F_2 &= 2m \cdot a \\ G_2 - S_2 &= 2m \cdot a \\ 2mg - S_2 &= 2ma \end{aligned}$$

Newtons 2. lov for rotasjon anvendt på trinsa, som har treghetsmoment I om rotasjonsaksen og får en vinkelaks. α :

$$\begin{aligned} \sum \tau &= I\alpha \\ S_2R - S_1R &= I\alpha \end{aligned}$$

Ettersom snora ikke glir på trinsa, må klossenes akselerasjon a tilsvare den lineære akselerasjonen til et punkt på periferien til trinsa, dvs.

$$a = \alpha R \Rightarrow \alpha = \frac{a}{R}.$$

Dette gir:

$$S_2 R - S_1 R = I \cdot \frac{a}{R}$$

$$S_2 R - S_1 R = \frac{1}{2} \cdot 3m \cdot R^2 \cdot \frac{a}{R} \quad (\text{Treghetsmoment for massiv skive})$$

$$S_2 - S_1 = \frac{3}{2} ma \quad (\text{Forkorter } R)$$

Bruker addisjonsmetoden til å løse likningssettet som var resultatet av Newtons 2. lov på de to klossene:

$$S_1 - mg = ma$$

$$2mg - S_2 = 2ma$$

Adderer rad 1 til rad 2:

$$2mg - S_2 + S_1 - mg = 2ma + ma$$

$$mg - (S_2 - S_1) = 3ma$$

$$mg - \frac{3}{2} ma = 3ma \quad (\text{Setter inn fra rotasjonsdel})$$

$$3ma + \frac{3}{2} ma = mg$$

$$\frac{9}{2} ma = mg$$

$$a = \underline{\underline{\frac{2}{9}g}}$$

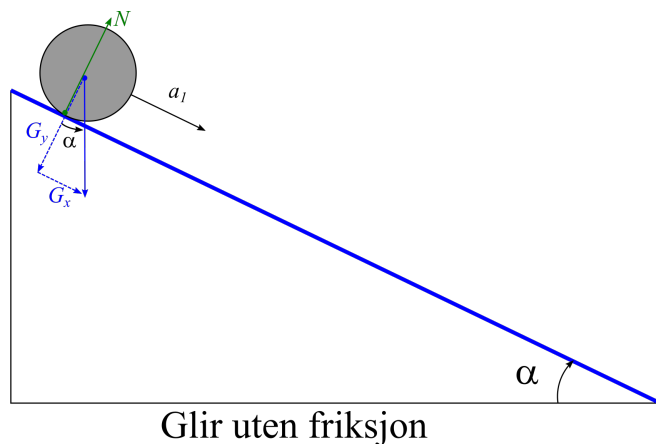
Akselerasjonen blir lavere enn i tilfelle i), som forventet.

Krav til full uttelling på oppgaven (maks. 5 poeng):

- Figur med inntegnede krefter på klossene og trinsa (1 poeng)
- Sette opp Newtons 2. lov på hver av de to klossene og trinsa (2 poeng)
- Kombinere likningene og finne akselerasjonen (2 poeng)

Oppgave 19

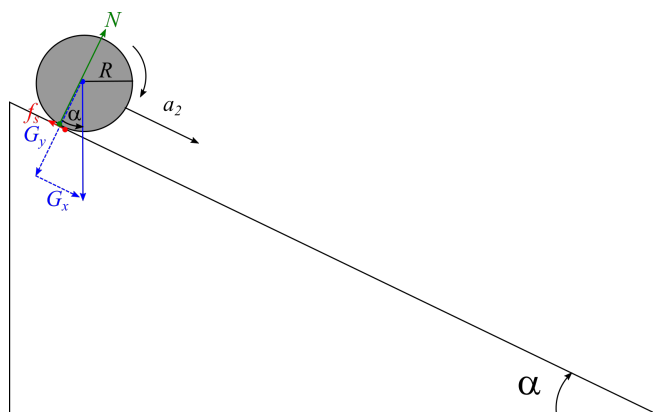
i) Figuren under viser kreftene som virker på sylinderen når den glir nedover et skråplan uten friksjon:



Kun komponenten G_x til tyngden virker langs skråplanet; Newtons 2. lov i denne retningen gir da

$$\begin{aligned}\sum F_x &= ma_1 \\ mg \sin \alpha &= ma_1 \\ a_1 &= \underline{\underline{g \sin \alpha}}\end{aligned}$$

ii) I dette tilfellet virker det en friksjonskraft f_s mellom sylindere og underlaget (det er denne som sørger for at sylindere ruller), som vist på figuren under:



Ruller uten å gli

I dette tilfellet gir Newtons 2. lov for bevegelsen til massesenteret at

$$\begin{aligned}\sum F_x &= ma_2 \\ mg \sin \alpha - f_s &= ma_2\end{aligned}$$

Newtons 2. lov for rotasjon gir sammenhengen (her er I treghetsmomentet til sylindere om massesenteret):

$$\begin{aligned}\sum \tau &= I\alpha \\ f_s \cdot R &= I\alpha\end{aligned}$$

Ettersom sylindere ruller uten å gli, er sammenhengen mellom massesenterets akselerasjon a_2 og vinkelakselerasjonen gitt ved

$$a_2 = \alpha R \Rightarrow \alpha = \frac{a_2}{R}$$

Dette gir

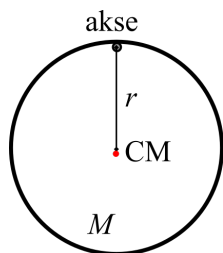
$$\begin{aligned}f_s \cdot R &= I \cdot \frac{a_2}{R} \\ f_s \cdot R &= \frac{1}{2}mR^2 \cdot \frac{a_2}{R} && \text{(Treghetsm. for sylindere)} \\ f_s &= \frac{1}{2}ma_2\end{aligned}$$

Innsatt i den andre likninga:

$$\begin{aligned}mg \sin \alpha - f_s &= ma_2 \\ mg \sin \alpha - \frac{1}{2}ma_2 &= ma_2 \\ \frac{3}{2}ma_2 &= mg \sin \alpha \\ a_2 &= \underline{\underline{\frac{2}{3}g \sin \alpha}}\end{aligned}$$

Oppgave 20

Figuren under viser ringen med rotasjonsaksen ved kanten av ringen (en “ring” er pr. definisjon uendelig tynn, og har bare én radius - i motsetning til “hul sylinder”, som har indre/ytte radius).

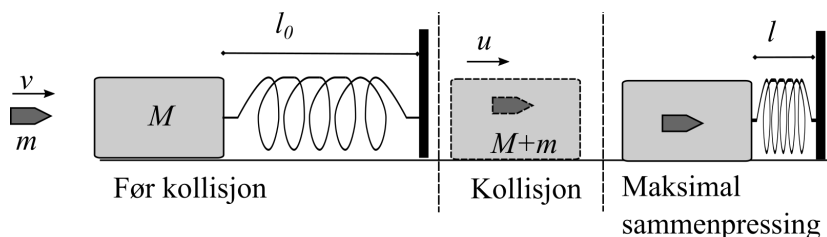


Bruker Steiners sats til å bestemme treghetsmomentet I om aksen: hvis I_{CM} er treghetsmomentet om massesenteret (sentrum) og $d = r$ er avstanden mellom massesenter og akse, får vi

$$\begin{aligned} I &= I_{CM} + Md^2 \\ &= Mr^2 + Mr^2 \\ &= \underline{\underline{2Mr^2}} \end{aligned}$$

Oppgave 21

i) Figuren under viser situasjonen der kula treffer klossen, og fjæra sammenpresses maksimalt:



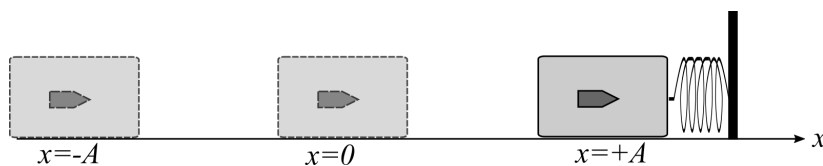
Farten til kule + kloss etter kollisjonen er u . Finner u fra bevaring av bevegelsesmengde, når kollisjonen er fullstendig uelastisk (legemene sitter sammen etterpå):

$$\begin{aligned} \sum p_{f\phi r} &= \sum p_{etter} \\ mv &= (M + m)u \\ u &= \underline{\underline{\frac{m}{M + m}v}} \end{aligned}$$

Den maksimale sammenpressingen $x = l - l_0$ av fjæra finner vi fra energibevaring: kinetisk energi for kule + kloss går over til potensiell energi i fjæra:

$$\begin{aligned} \frac{1}{2}(M + m)u^2 &= \frac{1}{2}kx^2 \\ x &= \sqrt{\frac{M + m}{k}u^2} \\ &= \sqrt{\frac{M + m}{k} \cdot \left(\frac{m}{M + m}v\right)^2} \\ &= \underline{\underline{\sqrt{\frac{1}{k} \frac{m^2}{M + m}v^2}}} \end{aligned}$$

ii) Figuren under viser situasjonen der klossen utfører frie svingninger mellom ytterpunktene $x = \pm A$:



Utslaget $x(t)$ fra likevektsstillingen $x = 0$ for en slik svingning er gitt ved

$$\begin{aligned} x(t) &= A \cos(\omega t + \phi) \\ &= A \cos\left(\sqrt{\frac{k}{M+m}} \cdot t + \phi\right) \end{aligned} \quad (\omega \text{ for fri, udempet svingning})$$

Ettersom klossen befinner seg i $x = +A$ ved $t = 0$, skal må faseforskyvningen ϕ være bestemt av

$$\begin{aligned} x(0) &= A \\ A \cos \phi &= A \\ \cos \phi &= 1 \end{aligned}$$

Vinkelen $\phi = 0$ oppfyller denne betingelsen, slik at utslaget blir

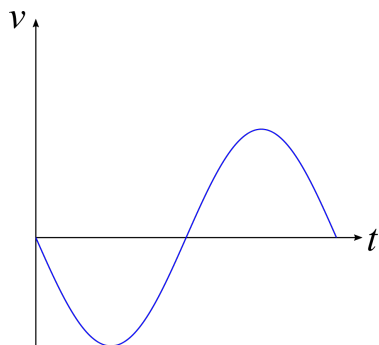
$$x(t) = \underline{\underline{A \cos\left(\sqrt{\frac{k}{M+m}} \cdot t\right)}}$$

Oppgave 22

En kloss er festet til en fjær, og kan svinge uten friksjon på et horisontalt underlag. Klossen dras ut til et maksimalt utslag og slippes med null startfart ved $t = 0$. Vi skal bestemme formen for fartsgrafen til klossen.

En slik svingning blir lik den fra forrige oppgave, dvs. $x(t) = A \cos(\omega t)$. Vi kan så klart finne $v_x = x'(t) = -A\omega \sin \omega t$ og tegne grafen til denne, men er raskt resonnement er like greit: fartsgrafen får form som en cosinus/sinus. Etter at klossen slippes fra $x = +A$ med null startfart, vil farten være negativ (klossen dras i negativ x -retning), før den stanser opp i endepunktet $x = +A$, og farten igjen blir positiv.

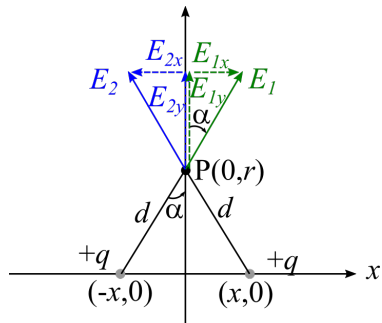
Figuren under viser den eneste fartsgrafen som er i tråd med dette resonnementet:



Elektromagnetisme-del

Oppgave 23

Figuren under viser feltbidragene i punkt $P(0, r)$ fra de to punktladningene i $(\pm x, 0)$:



De horisontale feltbidragene E_{1x} og E_{2x} nuller ut hverandre; de vertikale adderes, slik at det totale feltet i y -retning blir

$$\begin{aligned}
 E_y &= E_{1y} + E_{2y} \\
 &= 2 \cdot E_{1y} && \text{(Bidragene er like)} \\
 &= 2 \cdot E_1 \cos \alpha && \text{(Fra trigonometri)} \\
 &= 2 \cdot \frac{kq}{d^2} \cos \alpha && \text{(Elektrisk felt fra punktladning)} \\
 &= \frac{2kq}{x^2 + r^2} \cdot \cos \alpha && \text{(Pytagoras')}
 \end{aligned}$$

Ut i fra figuren er

$$\cos \alpha = \frac{r}{d} = \frac{r}{\sqrt{x^2 + r^2}}$$

Sammen gir dette

$$\begin{aligned}
 E_y &= \frac{2kq}{x^2 + r^2} \cdot \frac{r}{\sqrt{x^2 + r^2}} \\
 &= \frac{2kqr}{(x^2 + r^2)^{\frac{3}{2}}}
 \end{aligned}$$

Oppgave 24

Energibevaring for protonet: idet det slippes fra øverste plate med null fart har det kun potensiell elektrisk energi; ved nedre plate har denne gått over til kinetisk energi (vi kan se bort fra potensiell energi i tyngdefeltet, da tyngderkaften på et proton er neglisjerbar sammenliknet med de elektriske kreftene).

Regnskapet blir altså:

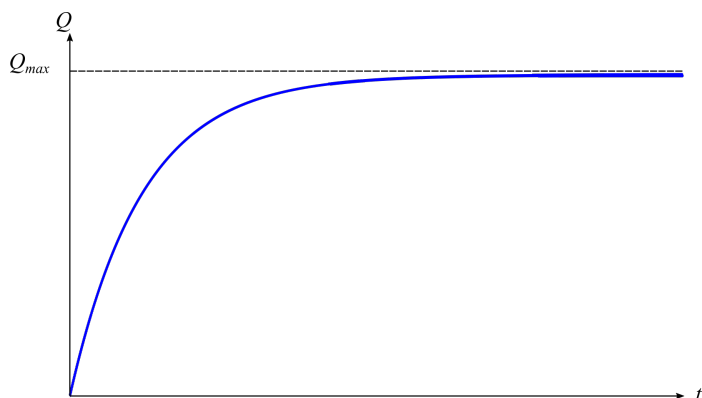
$$\begin{aligned}
 qEd &= \frac{1}{2}mv^2 \\
 v &= \sqrt{\frac{2qEd}{m}} \\
 &= \sqrt{\frac{2 \cdot 1,60 \cdot 10^{-19} \text{ C} \cdot 1,0 \cdot 10^3 \text{ V/m} \cdot 0,10 \text{ m}}{1,67 \cdot 10^{-27} \text{ kg}}} \\
 &= 1,38 \cdot 10^5 \text{ m/s} \\
 &\approx \underline{\underline{1,4 \cdot 10^5 \text{ m/s}}}
 \end{aligned}$$

Oppgave 25

i) Ved oppladning av en kondensator med kapasitans C fra et batteri gjennom en motstand med resistans R er ladningen på kondensatoren som funksjon av tid gitt ved

$$Q(t) = Q_{max} \left(1 - e^{-\frac{t}{RC}} \right),$$

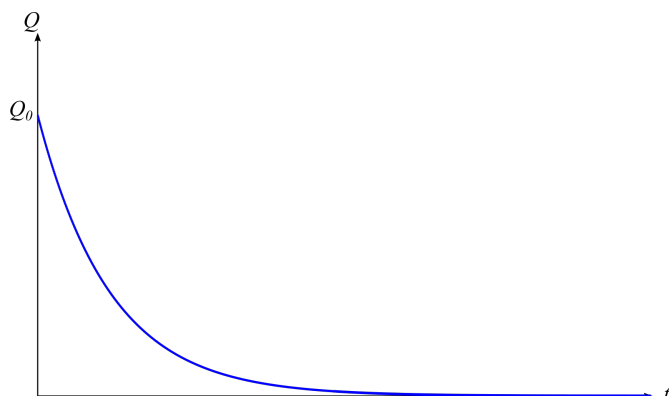
der Q_{max} er den maksimale ladningen som kan lagres på kondensatoren. Grafen til en slik funksjon, dvs. en funksjon på formen $y(x) = \text{konstant} \cdot (1 - e^{-x})$, har en graf som vist på figuren under.



ii) Når en oppladet kondensator med kapasitans C utlades gjennom en motstand med resistans R , er ladningen på kondensatoren gitt ved

$$Q(t) = Q_0 e^{-\frac{t}{RC}},$$

som altså blir en funksjon som avtar eksponentielt fra en startverdi Q_0 . En slik graf er skissert under.



Oppgave 26

i) Så lenge bryter S_2 er åpen, går det ingen strøm i greina med kondensator C_2 . Strømmen i kretsen er null idet kondensatoren C_1 er maksimalt oppladet, og den maksimale ladningen i dette tilfellet er bestemt av batteriets ems ε :

$$\begin{aligned} Q_{max} &= \varepsilon C_1 \\ &= 20 \text{ V} \cdot 6,0 \mu\text{F} \\ &= \underline{\underline{120 \mu\text{C}}} \end{aligned}$$

ii) Når bryteren S_1 åpnes og S_2 lukkes, vil ladningen som i utgangspunktet lå på C_1 , fordele seg på de to kondensatorene inntil spenningen over de to kondensatorene er like store. Ut i fra definisjonen av kapasitans er spenningen over kondensatorene gitt ved

$$\begin{aligned} C_1 &= \frac{Q_1}{V} \Rightarrow V = \frac{Q_1}{C_1} \\ C_2 &= \frac{Q_2}{V} \Rightarrow V = \frac{Q_2}{C_2} \end{aligned}$$

At spenningen V skal være den samme over begge kondensatorene gir likningen

$$\frac{Q_1}{C_1} = \frac{Q_2}{C_2},$$

med tilleggsbetingelsen

$$Q_1 + Q_2 = Q_0,$$

der $Q_0 = 150 \mu\text{C}$ er ladningen som i utgangspunktet var lagret på C_1 . I denne oppgaven er $C_1 = 2C_2$, slik at vi får

$$\frac{Q_1}{Q_2} = \frac{C_1}{C_2} = 2 \Rightarrow Q_1 = 2Q_2$$

Fra tilleggsbetingelsen:

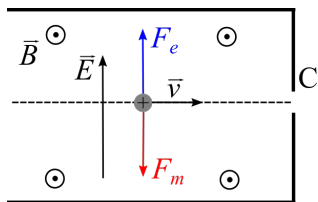
$$\begin{aligned} Q_1 + Q_2 &= Q_0 \\ 2Q_2 + Q_2 &= Q_0 \\ 3Q_2 &= Q_0 \\ Q_2 &= \frac{Q_0}{3} \\ &= \frac{150 \mu\text{C}}{3} \\ &= \underline{\underline{50 \mu\text{C}}} \end{aligned}$$

Da er

$$Q_1 = 2Q_2 = \underline{\underline{100 \mu\text{C}}}$$

Oppgave 27

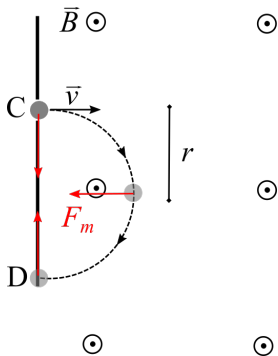
i) Figuren under viser et proton som beveger seg rettlinjet mellom de parallelle platene. I et slikt tilfelle er magnetkraften $F_m = q|\vec{v} \times \vec{B}| = qvB$ og den elektriske kraften $F_e = qE$ på protonet like store og motsatt rettet, slik figuren under viser:



Dette gir:

$$\begin{aligned}
 qvB &= qE \\
 v &= \frac{E}{B} \\
 &= \frac{1,0 \cdot 10^5 \text{ V/m}}{0,10 \text{ T}} \\
 &= \underline{\underline{1,0 \cdot 10^6 \text{ m/s}}}
 \end{aligned}$$

ii) I området etter spalten C er det kun et magnetfelt, slik at protonet kun påvirkes av magnetkraften F_m , som hele tiden står normalt på protonets fartsretning. Protonet vil da avbøyes i en sirkel, slik figuren under viser:



Newtons 2. lov for sirkelbevegelsen med radius r :

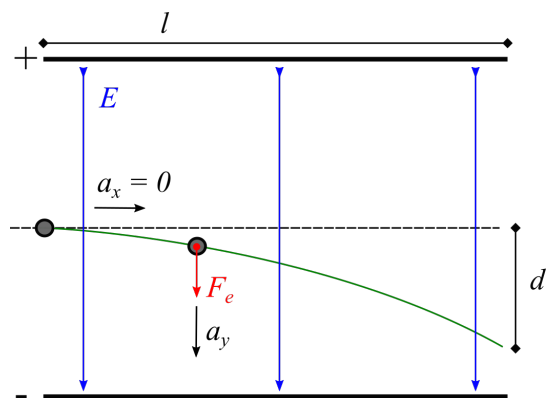
$$\begin{aligned}
 \sum F &= ma \\
 qvB &= m \frac{v^2}{r} && \text{(Sentripetalakselerasjon)} \\
 r &= \frac{mv}{qB} \\
 &= \frac{1,67 \cdot 10^{-27} \text{ kg} \cdot 2,0 \cdot 10^5 \text{ m/s}}{1,60 \cdot 10^{-19} \text{ C} \cdot 0,10 \text{ T}} \\
 &= 0,021 \text{ m} \\
 &= \underline{\underline{2,1 \text{ cm}}}
 \end{aligned}$$

Avstanden CD utgjør diameteren i sirkelen, slik at denne avstanden blir

$$2 \cdot 2,1 \text{ cm} = \underline{\underline{4,2 \text{ cm}}}$$

Oppgave 28

Vi skal bestemme den vertikale avbøyningen d for et proton som avbøyes i et homogent elektrisk felt E mellom to parallelle plater med lengde l . Figuren under viser kreftene som virker på protonet i området mellom platene (vi kan blankt se bort fra tyngden, som er flere titalls tierpotenser mindre enn den elektriske krafta):



Den elektriske kraften på protonet er gitt ved

$$F_e = qE.$$

Den vertikale akselerasjonen til protonet blir ():

$$\begin{aligned} \sum F_y &= ma_y \\ F_e &= ma_y \\ a_y &= \frac{F_e}{m} \\ &= \frac{qE}{m} \end{aligned}$$

Tiden protonet bruker på å passere platene finner vi fra bevegelseslikningen for x -retningen, der farten er konstant og lik den oppgitte startfarten til protonet:

$$x = v_{0x}t \Rightarrow t = \frac{x}{v_{0x}}$$

Avbøyningen d blir gitt ved (med $v_{0y} = 0$):

$$\begin{aligned} d &= v_{0y}t + \frac{1}{2}a_yt^2 \\ &= \frac{1}{2}a_yt^2 && \text{(Når } v_{0y} = 0) \\ &= \frac{1}{2}a_y \left(\frac{x}{v_{0x}} \right)^2 && \text{(Setter inn for } t) \\ &= \frac{1}{2} \cdot \frac{qE}{m} \left(\frac{x}{v_{0x}} \right)^2 \\ &= \frac{1}{2} \cdot \frac{1,60 \cdot 10^{-19} \text{ C} \cdot 3,5 \cdot 10^5 \text{ N/C}}{1,67 \cdot 10^{-27} \text{ jg}} \cdot \left(\frac{0,12 \text{ m}}{1,3 \cdot 10^7 \text{ m/s}} \right)^2 \\ &= 1,43 \cdot 10^{-3} \text{ m} \\ &\approx \underline{\underline{1,4 \text{ mm}}} \end{aligned}$$

Oppgave 29

i) Selvinduktansen L for en spole er definert som

$$L = N \frac{\Phi_m}{I},$$

der Φ_m er den magnetiske fluksen gjennom spolen på grunn av dens eget magnetfelt B når det går en strøm I gjennom spolen, som har areal A og lengde l . Ut i fra definisjonen av magnetisk fluks:

$$\begin{aligned}\Phi_m &= BA \\ &= \mu_0 \frac{N}{l} I \cdot A\end{aligned}\quad (\text{Formel for magnetfelt inni spole})$$

Selvinduktansen blir da

$$\begin{aligned}L &= N \frac{\Phi_m}{I} \\ &= N \cdot \frac{\mu_0 \frac{N}{l} I \cdot A}{I} \\ &= \frac{\mu_0 N^2 A}{l} \\ &= \frac{4\pi \cdot 10^{-7} \text{ Tm/A} \cdot 1000^2 \cdot 1,0 \cdot 10^{-4} \text{ m}^2}{0,10 \text{ m}} \\ &= 1,26 \cdot 10^{-3} \text{ H} \\ &\approx \underline{\underline{1,3 \text{ mH}}}\end{aligned}$$

ii) Ut i fra definisjonen av selvinduktans,

$$L = N \frac{\Phi_m}{I} \Rightarrow \Phi_m = \frac{1}{N} L \cdot I,$$

blir induisert spenning ε i en spole med selvinduktans L gitt ved Faradays induksjonslov:

$$\begin{aligned}\varepsilon &= N \frac{d\Phi_m}{dt} \\ &= L \frac{dI}{dt} && (\text{Setter inn for } \Phi_m) \\ &= 50 \mu\text{H} \cdot \frac{0,80 \text{ A} - 0}{1,0 \cdot 10^{-3} \text{ s}} && (\text{Setter inn kjente tall}) \\ &= \underline{\underline{40 \text{ V}}}\end{aligned}$$

Oppgave 30

i) Fluksen gjennom én sløyfe/spolevinding er gitt ved

$$\Phi_m = BA \cos \phi,$$

der ϕ er vinkelen mellom normalvektoren til sløyfa og magnetfeltet. Den totale fluksen gjennom en spole med N vindinger blir da

$$N\Phi_m = \underline{NBA \cos \phi}.$$

Dersom vinkelen $\phi = \phi_0 = 0$ ved $t = 0$ og spolen dreies med konstant vinkelfart ω , gir “bevegelseslikningene” for konstant vinkelfart at

$$\begin{aligned}\phi &= \phi_0 + \omega t \\ &= \underline{\omega t}.\end{aligned}$$

Til sammen gir dette at total fluks Φ_{total} gjennom spolen som funksjon av tid blir

$$\Phi_{total} = \underline{NBA \cos \omega t}$$

Krav for full uttelling på oppgaven (maks. 3 poeng):

- Referanse til riktig formel for fluks, med faktor N (1 poeng)
- Utregning/forklaring på at vinkelen $\phi(t) = \omega t$ (2 poeng)

ii) Den induerte emsen i spolen er gitt fra Faradays induksjonslov:

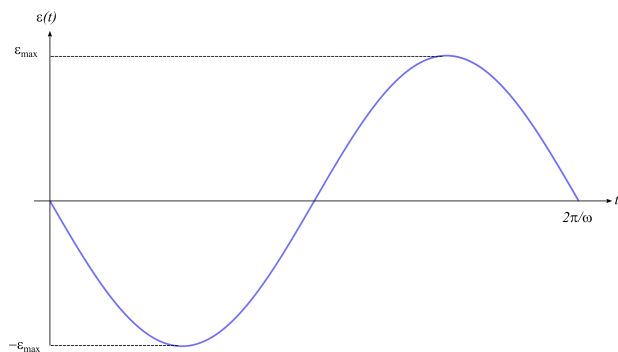
$$\begin{aligned} \varepsilon &= \frac{d\Phi_{total}}{dt} \\ &= NBA \frac{d}{dt}(\cos \omega t) \\ &= NBA \cdot \omega (-\sin \omega t) \\ &= \underline{\underline{-NBA\omega \sin \omega t}} \end{aligned}$$

Minustegnet er et uttrykk for Lenz' regel om at emsen motvirker fluksendringene; det er et fullt akseptabelt svar å kun angi absoluttverdien til spenningen, dvs. $|\varepsilon|$.

Krav for full uttelling på oppgaven (maks. 4 poeng):

- Sette opp formel for induert ems ved bruk av Faradays induksjonslov (1 poeng)
- Riktig derivasjon ved bruk av kjerneregul (2 poeng)
- Kommentar til betydningen av minustegnet (1 poeng)

iii) Skisserer $\varepsilon(t)$ for én omdreining, dvs. ωt som løper fra 0 til 2π , som betyr at t ligger i intervallet $0 \leq t \leq \frac{2\pi}{\omega}$:



Krav for full uttelling på oppgaven (maks. 3 poeng):

- Korrekt form på sinusfunksjon (med eller uten minustegn) (2 poeng)
- Enheter på aksene (1 poeng)