

TFY4104 Fysikk. Institutt for fysikk, NTNU.
Øving 8.

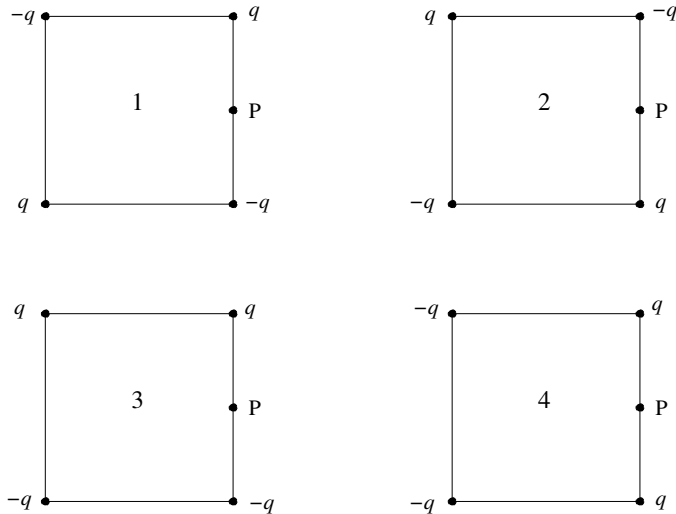
Oppgave 1

a) Figuren viser feltlinjer for et uniformt elektrisk felt. Et elektron som plasseres i dette feltet vil

- A bevege seg med konstant hastighet mot venstre.
- B bevege seg med konstant hastighet mot høyre.
- C akselereres mot venstre.
- D akselereres mot høyre.

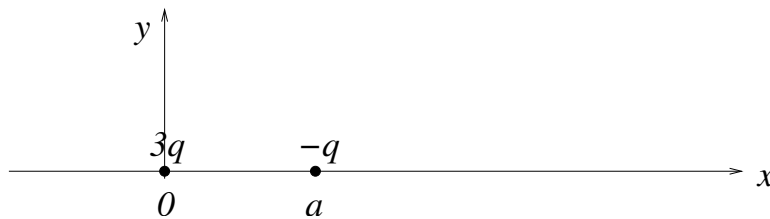


b) To positive og to negative punktladninger, alle fire like store i absoluttverdi (q), skal plasseres i hvert sitt hjørne av et kvadrat. På hvilken måte skal punktladningene plasseres for å oppnå størst mulig elektrisk feltstyrke (dvs $E = |\mathbf{E}|$) midt på høyre sidekant, i punktet P?



- A 1
- B 2
- C 3
- D 4

Oppgave 2



a) To punktladninger $3q$ og $-q$ er plassert på x -aksen i henholdsvis $x = 0$ og $x = a$. Forklar hvorfor mulige likevektsposisjoner for en tredje ladning q må være på x -aksen.

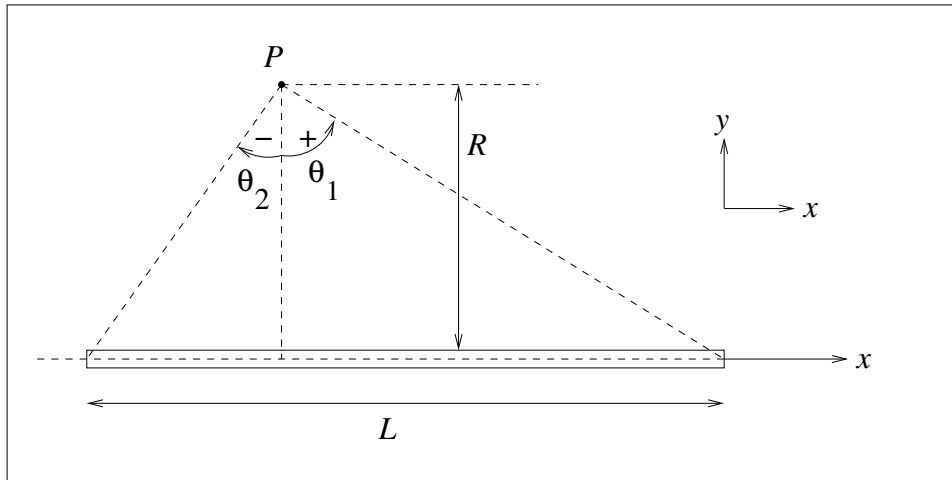
b) Det er en likevektsposisjon x_0 på x -aksen for denne tredje ladningen. Bestem x_0 . Begrunn, uten ytterligere regning, at denne likevekten er ustabil med hensyn på en liten forflytning i x -retning. (Alternativt, med ytterligere regning: Vurder stabiliteten av likevekten ved å se på dF/dx i $x = x_0$.)

[I likevekt virker det ingen netto kraft på ladningen. Når den forskyves en avstand Δx fra likevektsposisjonen, vil den påvirkes av en kraft. Dersom denne kraften virker i samme retning som Δx , er likevekten ustabil, i motsatt fall stabil.]

Oppgave 3

En tynn stav med lengde L har uniform ladning λ pr lengdeenhet.

a) Hvor mye ladning dq er det på en liten lengde dx av staven? Hva er stavens totale ladning Q ?



b) Vi legger staven på x -aksen, slik at punktet P har koordinater $(x, y) = (0, R)$. Vis at det elektriske feltet i P , dvs i avstand R fra staven, er gitt ved $\mathbf{E} = E_x \hat{x} + E_y \hat{y}$, med

$$E_x = \frac{\lambda}{4\pi\epsilon_0 R} (\cos \theta_1 - \cos \theta_2) \quad E_y = \frac{\lambda}{4\pi\epsilon_0 R} (\sin \theta_1 - \sin \theta_2).$$

Her er θ_1 og θ_2 vinklene som dannes mellom linjene fra P til stavens endepunkter og normalen til staven gjennom P (dvs y -aksen), som vist i figuren. (Fortegnet til vinklene er som indikert i figuren, dvs θ er negativ når $x < 0$).

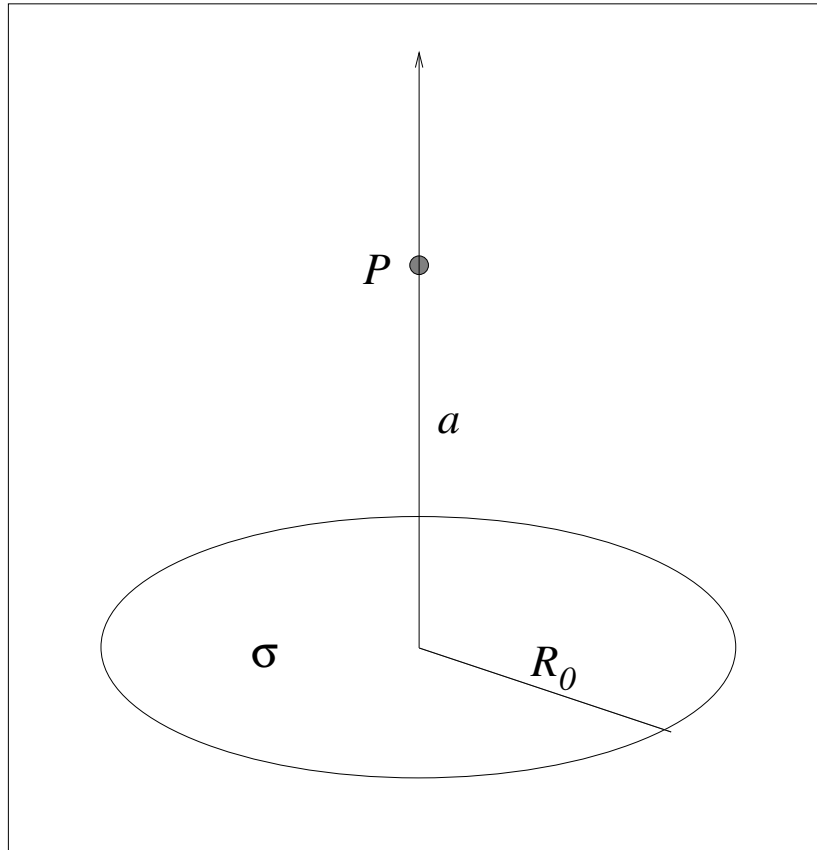
[Tips: Feltet $d\mathbf{E}$ fra en liten bit dx av staven (i posisjon x) er $d\mathbf{E} = (\lambda dx/4\pi\epsilon_0 r^2)\hat{r}$, der \mathbf{r} er avstandsvektoren fra biten dx til punktet P . Prøv deretter å ende opp med θ som integrasjonsvariabel ved å finne en sammenheng mellom x og θ .]

c) Bestem feltet når P er like langt fra stavens to ender. Hva blir \mathbf{E} når P er langt unna staven (dvs $R \gg L$). NB: Her er vi ikke ute etter (det i og for seg korrekte) svaret $\mathbf{E} \simeq 0$ for $R \rightarrow \infty$, men derimot hvordan \mathbf{E} avhenger av R "til ledende orden" for $R \gg L$. Er svaret som forventet?

d) Hva blir det elektriske feltet i avstand R fra en uendelig lang uniformt ladet stav? (Dvs: $L \rightarrow \infty$)

Oppgave 4

Ei tynn, sirkelforma skive med radius R_0 har uniform ladning σ pr flateenhet.



a) Hvor mye ladning dq er det på en tynn ring av skiva, med radius R og bredde dR ? Hva er skivas totale ladning Q ?

b) Bestem det elektriske feltet \mathbf{E} i et punkt P på symmetriaksen i en avstand a fra skiva. (Tips: Bruk eksemplet fra forelesningene til først å finne feltet $d\mathbf{E}$ i P fra en tynn ring med radius R og bredde dR . Integrer deretter fra $R = 0$ til $R = R_0$.)

c) Hva blir \mathbf{E} (igjen: til ledende orden, jfr forrige oppgave) i de to tilfellene $a \gg R_0$ og $a \ll R_0$, dvs henholdsvis langt unna og nært inntil skiva?

Oppgitt: $(1 + \alpha)^{\pm 1/2} \simeq 1 \pm \alpha/2$ dersom $\alpha \ll 1$.

(Dette er rett og slett de to første leddene i en polynomutvikling ("rekkeutvikling") av funksjonene $f(\alpha) = (1 + \alpha)^{\pm 1/2}$ om punktet $\alpha = 0$.)

Fasitsvar:

Oppgave 2b: $x_0 = (3 + \sqrt{3})a/2$.

Oppgave 4b: $E = \frac{\sigma}{2\epsilon_0} \left(1 - \frac{a}{\sqrt{a^2 + R_0^2}} \right)$