

Swingninger

[YF 14 ; LL 9]

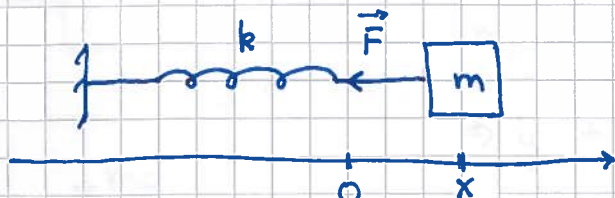
(53)

Periodisk oppførsel omkring en likevekt

Eks: Masse / fjær. Pendel. Gitarstreng. Atom i molekyl. etc

Harmonisk oscillator

[YF 14.2 ; LL 9.1-9.3]



x = posisjonen til m

= fjæras forlængelse ($x > 0$)

eller sammenpressing ($x < 0$)

Likevekt når
 m er i pos. $x = 0$

\vec{F} = kraft på m fra fjæra ; virker alltid i retning
tilbake mot likevekt

Ei ideell fjær følger Hookes lov:

$$\vec{F} = -kx \hat{x}$$

k = fjærkonstanten ; $[k] = \text{N/m}$

N2 : $-kx = m\ddot{x}$

$$\Rightarrow \ddot{x} + \omega_0^2 x = 0 ; \quad \omega_0^2 = \frac{k}{m}$$

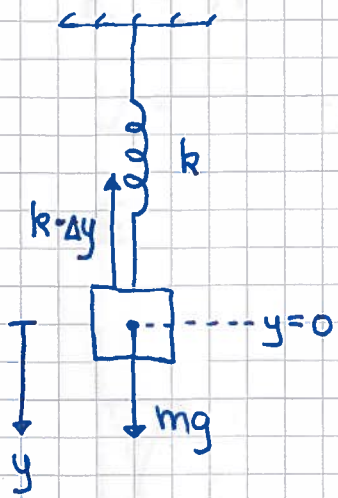
Enkel harmonisk
oscillator i 1D.

Løsning: $x(t) = B \cos \omega_0 t + C \sin \omega_0 t$

eller $x(t) = A \cos(\omega_0 t + \varphi)$

Konstantene B og C , evt A og φ , fastlegges med to
initialbetingelser, f.eks $x = x_0$ og $\dot{x} = v_0$ ved tid $t = 0$.

En konstant tilleggskraft endrer likevektsposisjonen, men ikke ligningen:



Lodd i ro når $\Sigma F = 0 \Rightarrow k \Delta y = mg$

Fjæra forlenges med $\Delta y = mg/k$

Anta CM i $y = 0$ i strukket likevekt.

N2, når CM er i pos. y :

$$m\ddot{y} = \Sigma F = mg - k(\Delta y + y) = -ky$$

$$\Rightarrow \ddot{y} + \omega_0^2 y = 0 \quad ; \quad \omega_0^2 = k/m$$

Mange størrelser er kjent fra sirkelbevegelse:

$$x(t) = A \cos(\omega_0 t + \varphi) = \text{oscillatorens utsving fra likevekt (f.eks. posisjon)}$$

$$A = \text{amplitude} = \text{max utsving fra likevekt} \quad ; \quad [A] = [x]$$

$$\omega_0 = \text{vinkelfrekvens} \quad ; \quad [\omega_0] = s^{-1}$$

$$T = 2\pi/\omega_0 = \text{periode} = \text{tid pr hel svingning} \quad ; \quad [T] = s$$

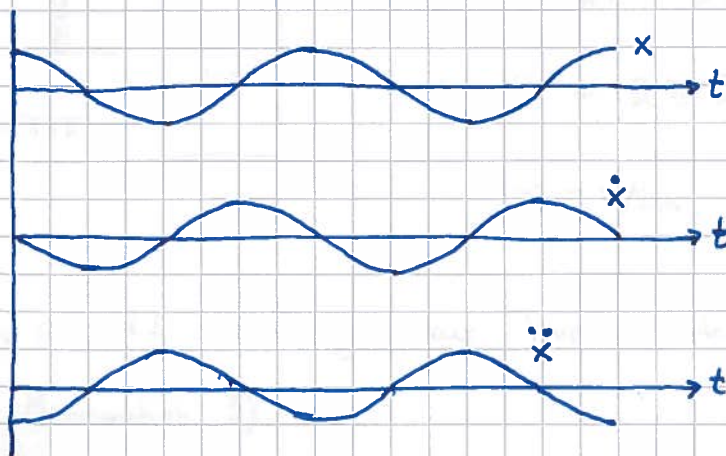
$$f = 1/T = \text{frekvens} = \text{antall svingninger pr tidsenhet} \quad ; \quad [f] = s^{-1} = \text{Hz}$$

$$\omega_0 t + \varphi = \text{svingningens fase}$$

$$\varphi = \text{fasekonstant} \quad ; \quad [\varphi] = 1$$

$$\dot{x}(t) = -\omega_0 A \sin(\omega_0 t + \varphi) = \omega_0 A \cos(\omega_0 t + \varphi + \pi/2) = \text{hastighet}$$

$$\ddot{x}(t) = -\omega_0^2 A \cos(\omega_0 t + \varphi) = \omega_0^2 A \cos(\omega_0 t + \varphi + \pi) = \text{akselerasjon}$$



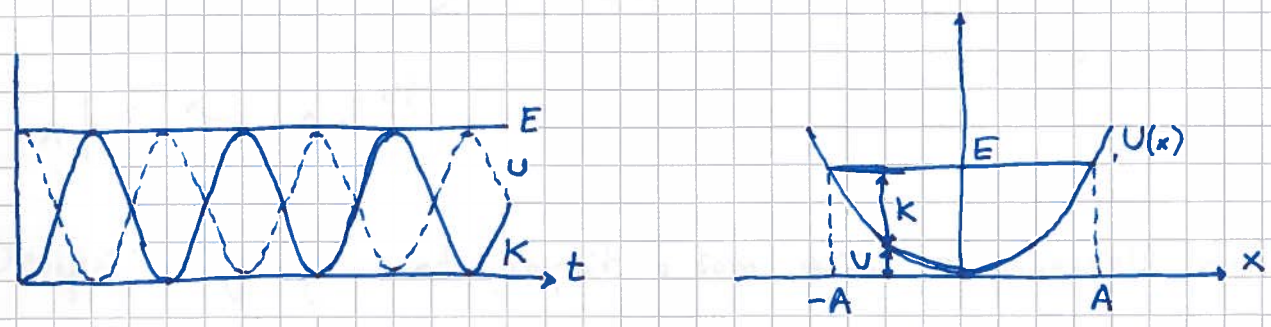
Energi i harmonisk oscillator [YF 14.3; LL 9.4]

Systemet er konservativt, og total mekanisk energi er bevart:

$$K = \frac{1}{2} m \dot{x}^2 = \frac{1}{2} m \omega_0^2 A^2 \sin^2 \omega_0 t = \frac{1}{2} k A^2 \sin^2 \omega_0 t$$

$$U = - \int_0^x (-kx) dx = \frac{1}{2} k x^2 = \frac{1}{2} k A^2 \cos^2 \omega_0 t$$

$$E = K + U = \frac{1}{2} k A^2$$



Dempet fri svingning [YF 14.7; LL 9.7]

Vi antar (for enkelhets skyld!) friksjonskraft p  formen

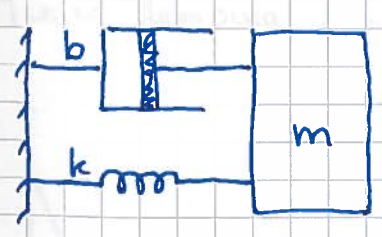
$$f = -b \dot{x}$$

dvs som ved langsom bevegelse i et fluid.

[Alternativ:

St rre hastighet i fluid: $f = -D \dot{x}^2$

T rr friksjon: $f = \mu_k N$]



$$N2: -kx - b\dot{x} = m\ddot{x}$$

$$\Rightarrow \ddot{x} + 2\gamma \dot{x} + \omega_0^2 x = 0$$

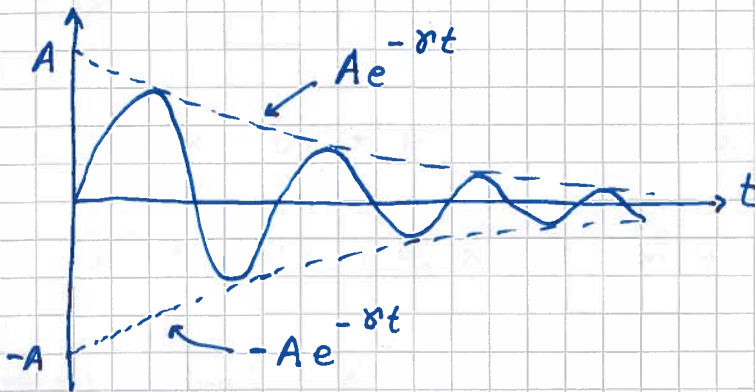
$$\gamma = b/2m, \omega_0^2 = k/m, [\gamma] = [\omega_0] = s^{-1}$$

L sning av N2 avhenger av hvor sterk demping vi har.

(Se Matematikk 3)

Underkritisk ("svak") damping, $\gamma < \omega_0$

$$x(t) = A e^{-\gamma t} \sin(\omega t + \varphi) ; \quad \omega = \sqrt{\omega_0^2 - \gamma^2}$$



Dempet svingning med amplitude som avtar eksponentielt med t , $Ae^{-\gamma t}$; eller tid $1/\gamma$ er amplituden redusert til $\frac{A}{e} \approx 0.37A$.

Overkritisk damping ("sterk" damping), $\gamma > \omega_0$

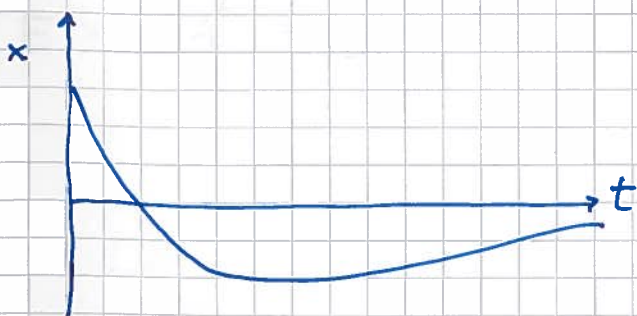
$$x(t) = A e^{-\alpha_1 t} + B e^{-\alpha_2 t}$$

$$\alpha_1 = \gamma + \sqrt{\gamma^2 - \omega_0^2}, \quad \alpha_2 = \gamma - \sqrt{\gamma^2 - \omega_0^2}$$

Kritisk damping, $\gamma = \omega_0$ (slik at $\alpha_1 = \alpha_2 = \gamma$)

$$x(t) = (A + Bt) e^{-\gamma t}$$

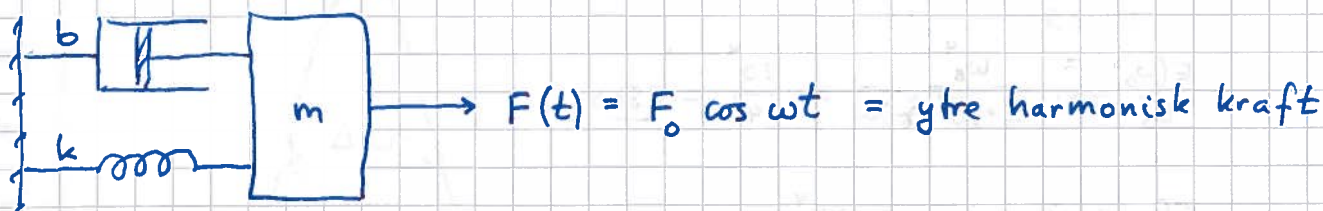
Minste damping som ikke gir svingninger; fint i støtdempere!



(Her er $x(0) = A > 0$
og $\dot{x}(0) < 0$)

Tvingen svingning og resonans [YF 14.8; LL 9.9]

(57)



$$N2: -kx - b\dot{x} + F_0 \cos \omega t = m\ddot{x}$$

$$\Rightarrow \ddot{x} + 2\gamma\dot{x} + \omega_0^2 x = \frac{F_0}{m} \cos \omega t \quad (2\gamma = \frac{b}{m}, \omega_0^2 = \frac{k}{m})$$

Generel løsning: $x(t) = x_h(t) + x_p(t)$

Homogen løsning: Løsning av $\ddot{x}_h + 2\gamma\dot{x}_h + \omega_0^2 x_h = 0$

Fra s 56: $x_h \sim \exp(-\gamma t) \rightarrow 0$ når $t \gg 1/\gamma$

Dvs, x_h er kun relevant for innsvingningsforløpet.

La oss nå anta at $t \gg 1/\gamma$. Da er

$$x(t) = x_p(t) = A(\omega) \sin[\omega t + \varphi(\omega)]$$

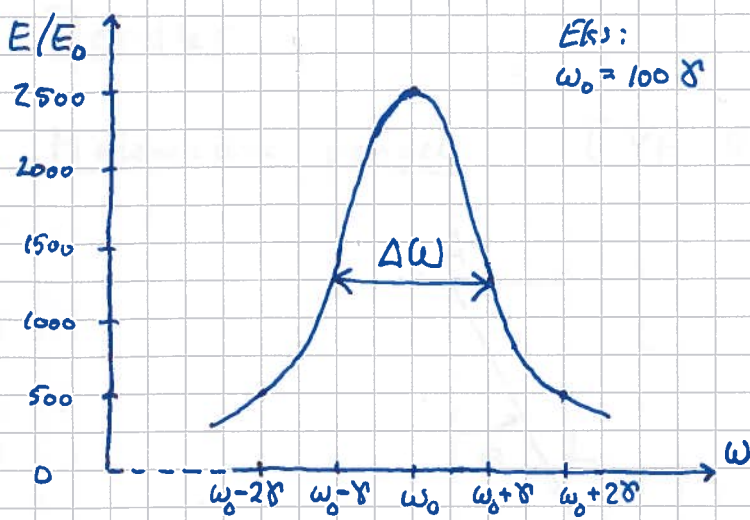
Innsetting av x_p , \dot{x}_p og \ddot{x}_p i N2 gir

$$A(\omega) = \frac{F_0/m}{\{(\omega^2 - \omega_0^2)^2 + (2\gamma\omega)^2\}^{1/2}}; \tan \varphi(\omega) = \frac{\omega_0^2 - \omega^2}{2\gamma\omega}$$

Resonans: Vi ser at A blir stor hvis $\omega \approx \omega_0$ og $\gamma \ll \omega_0$.

Oscillatorens energi:

$$E = \frac{1}{2}kA^2 = \dots = E_0 \cdot \frac{\omega_0^4}{(\omega^2 - \omega_0^2)^2 + (2\gamma\omega)^2}; E_0 = \frac{\pi^2}{2k}$$



ω	E/E_0
ω_0	2500
$\omega_0 \pm \delta$	1250
$\omega_0 \pm 2\delta$	500

Resonanskurvens halvverdbredde: $\Delta\omega \approx 2\delta$

Oscillatorens Q-faktor: $Q \equiv \omega_0 / \Delta\omega \approx \omega_0 / 2\delta$

Dvs: Smal resonanskurve \Rightarrow Høy Q-faktor ($Q=50$ ovenfor)

Jo mindre damping δ , jo smalere og høyere resonanskurve.

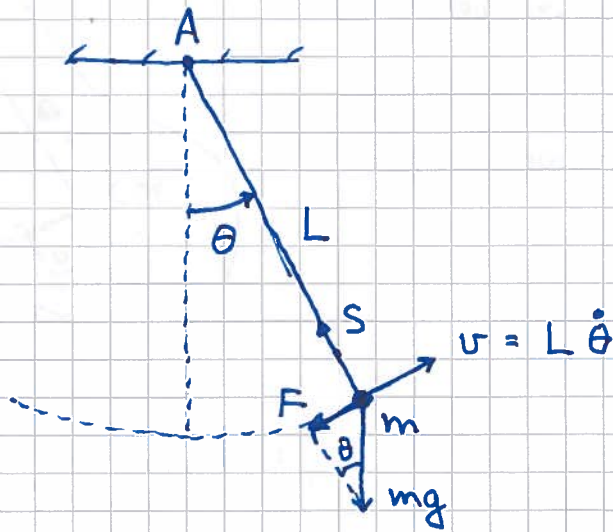
Exp: Stav med messinglodd.

Plotter A^2 som funksjon av frekvens f .

Pendler

59

Matematisk pendel [YF 14.5 ; LL 9.6]



Punktmasse m i
masseløs snor/stang.

N2 || sirkelbanen: $F = ma$ med $F = -mg \sin \theta$ og $a = \dot{v} = L\ddot{\theta}$

$$\Rightarrow -mg \sin \theta = mL\ddot{\theta}$$

$$\Rightarrow \ddot{\theta} + \frac{g}{L} \sin \theta = 0$$

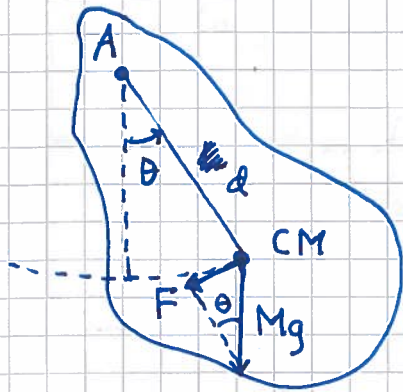
Antar små utsving fra likevekt, $|\theta| \ll 1 \Rightarrow \sin \theta \approx \theta$

$$\Rightarrow \ddot{\theta} + \omega_0^2 \theta = 0 ; \omega_0^2 = g/L$$

Fysisk pendel

[YF 14.6 ; LL 9.6]

(60)



Stivt legeme.

Masse M.

Tregghetsmoment I mhp aksen A.

N2 for rotasjon om A:

$$\tau = I \ddot{\theta}, \quad \text{med } \tau = -F \cdot d = -Mgd \sin \theta$$

(der vi regner τ som positiv mot klokke)

$$\Rightarrow \ddot{\theta} + \frac{Mgd}{I} \sin \theta = 0$$

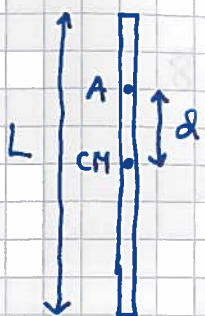
Antar små utsving $\Rightarrow \sin \theta \approx \theta$

$$\Rightarrow \ddot{\theta} + \omega_0^2 \theta = 0 ; \quad \omega_0^2 = \frac{Mgd}{I}$$

Hvis matematisk pendel ($d=L$):

$$I = ML^2 \Rightarrow \omega_0^2 = g/L ; \quad \sigma_K$$

Hvis tynn stang:



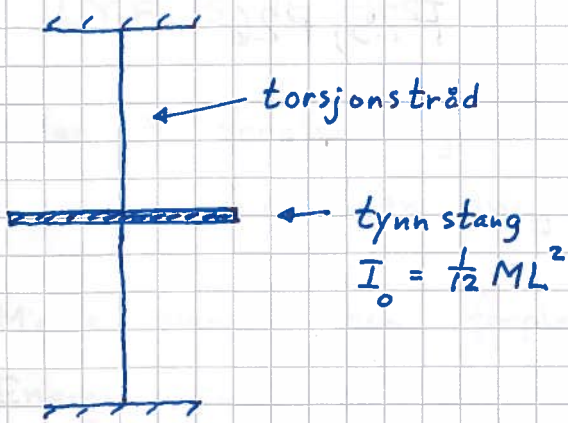
$$I = I_0 + Md^2 = \frac{1}{12} ML^2 + Md^2$$

$$\Rightarrow \omega_0^2 = \frac{gd}{d^2 + L^2/12} \Rightarrow T(d) = \frac{2\pi}{\omega_0} = 2\pi \sqrt{\frac{d^2 + L^2/12}{gd}}$$

Torsjonspendel

[YF 14.4 ; LL 9.6]

(61)

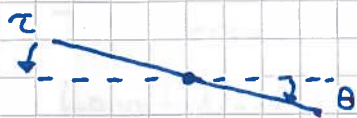


Torsjonstråden motsetter seg vridning. Virker på stanga med dreiemoment prop. med vridningsvinkelen,

$$\tau = -\kappa \theta \quad (\text{Hookes lov})$$

der κ = torsjonsstivheten

[$\kappa = \pi G d^4 / 32 l$; der G, d og l er hhv trådens skjærmodul, diameter og lengde]



N2 for rotasjon om trådens akse:

$$\tau = I_0 \ddot{\theta} \Rightarrow \ddot{\theta} + \omega_0^2 \theta = 0 ; \quad \omega_0^2 = \kappa / I_0$$

Exp : $M = 50g$, $L = 11cm$. Mål svingetida T og bestem κ .

Løsn : $T = 0.8s$

$$\begin{aligned} \Rightarrow \kappa &= I_0 \omega_0^2 = \frac{1}{2} ML^2 \cdot 4\pi^2 / T^2 = ML^2 \pi^2 / 3T^2 \\ &= (0.050 \cdot 0.11^2 \pi^2 / 3 \cdot 0.8^2) \text{ Nm} \\ &= \underline{0.003 \text{ Nm}} \end{aligned}$$