

Varmetransport [YF 17; LHL 18; HS 13]

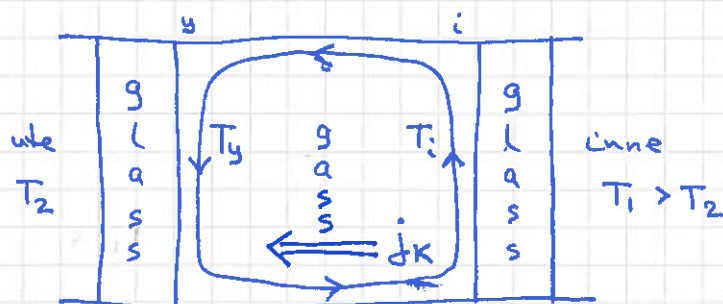
135

Ser på 3 ulike mekanismer:

- Konveksjon
- Varmeledning
- Stråling

Konveksjon [YF 17.7; LHL 18.2; HS 13.2]

Veldig kortfattet og kvalitativt, med dobbelvindu som eksempel:



$T_i > T_y \Rightarrow$ gassen varmes opp ved i , utvider seg og stiger; avkjøles ved y , trekker seg sammen og faller ned

\Rightarrow • Nettoeffekt: Strømning (se fig) og dermed varmeoverføring fra i til y

- Vanskelig å regne på

- Grovt sett: $j_k \sim \Delta T$; $\Delta T = T_i - T_y$

med j_k = overført varme pr flåteenhet og pr tidsenhet
(K for konveksjon)

- j_k vil avhenge av tykkelsen på laget mellom glassene

Fenomenologisk / Eksperimentelt finner man at overført varme typisk er proporsjonal med temperatordifferansen pr lengdeenhet, dvs. prop. med gradienten til T :

$$\vec{j} = -\kappa \nabla T \quad \text{Fouriers lov}$$

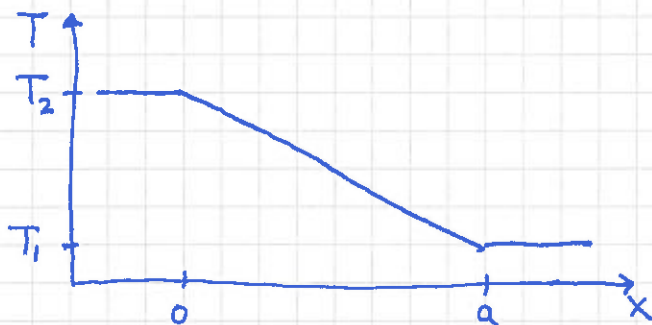
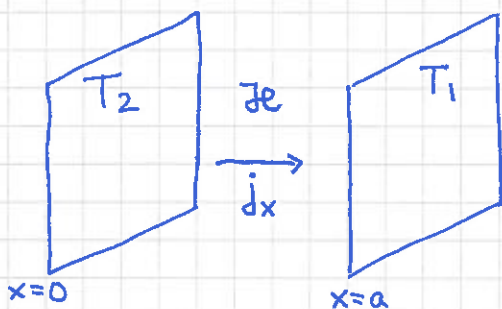
der \vec{j} = overført varme pr flate- og tidsenhet
(= varmestrømteitet); $[j] = \frac{J}{m^2 \cdot s} = W/m^2$

κ = varmeledningsevnen (evt. varmekonduktiviteten)
til stoffet som varmen transporteres gjennom
 $[\kappa] = W/m \cdot K$

Vi ser her kun på varmeledning i en bestemt retning, dvs endimensjonal varmeledning.

Først tidsuavhengig (evt. stasjonær) varmeledning:

■ To store parallelle plan i innbyrdes avstand a , med fast temp. hvor T_2 og $T_1 < T_2$:



Fouriers lov, med $T = T(x)$:

$$j_x = -\kappa \frac{dT}{dx}$$

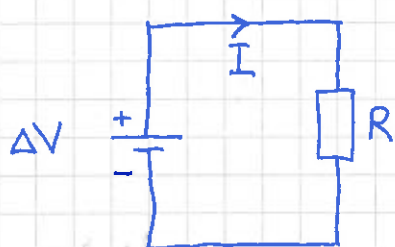
Stasjonær tilstand \Rightarrow j_x uavhengig av x (og av t , selvsagt!)

Hvis j_x varierte med x , ville strøm inn og strøm ut ved en gitt x være forskjellig, og dermed ville tilstanden ikke være stasjonær.

$$dT = - \frac{j_x}{\kappa} dx \Rightarrow \int_{T_2}^{T_1} dT = - \frac{j_x}{\kappa} \int_0^a dx \Rightarrow T_1 - T_2 = - \frac{j_x a}{\kappa}$$

$$\Rightarrow j_x = \frac{\kappa}{a} (T_2 - T_1) = \frac{\kappa}{a} \cdot \Delta T$$

Drs presis som Ohms lov!



ΔV = spenning (f.eks. med et batteri)

I = elektrisk strøm

R = resistans (motstand)

$$\text{Ohms lov: } \Delta V = R \cdot I \Rightarrow I = \frac{1}{R} \cdot \Delta V$$

Så analogien mellom varmeledningen og Ohms lov blir:

$$j_x \leftrightarrow I ; \quad \Delta T \leftrightarrow \Delta V ; \quad \frac{\kappa}{a} \leftrightarrow R$$

Det er nemlig at κ og R er "inverst analoge størrelser", siden κ er varmeledningsevne mens R representerer motstand mot transport (av elektrisk ~~lading~~ ladning). Skriver vi Ohms lov på formen

$I = G \cdot \Delta V$ med $G = \frac{1}{R} =$ konduktansen, så blir analogien enda tydeligere, $\kappa/a \leftrightarrow G$.

[Her leses \leftrightarrow som "tilsvare" eller "er analog med".]

Det er verdt å merke seg at siden $\Delta T_i \sim 1/\lambda_i$, får vi størst temperaturgradient ($\Delta T_i/a_i$) i det laget som har minst varmeledningsevne λ_i , dvs det som "isolerer best"!

Tallempele: Vegg med 3 cm ytter- og innerpanel i gran, med 20 cm "glava" (glassvatt) mellom; $\lambda_{gran} = 0.12 \text{ W/m}\cdot\text{K}$, $\lambda_{glava} = 0.035 \text{ W/m}\cdot\text{K}$.

a) Med $T_4 = 20^\circ\text{C}$ og $T_1 = -10^\circ\text{C}$, hva blir j_x ?

b) Hva blir $T(x)$?

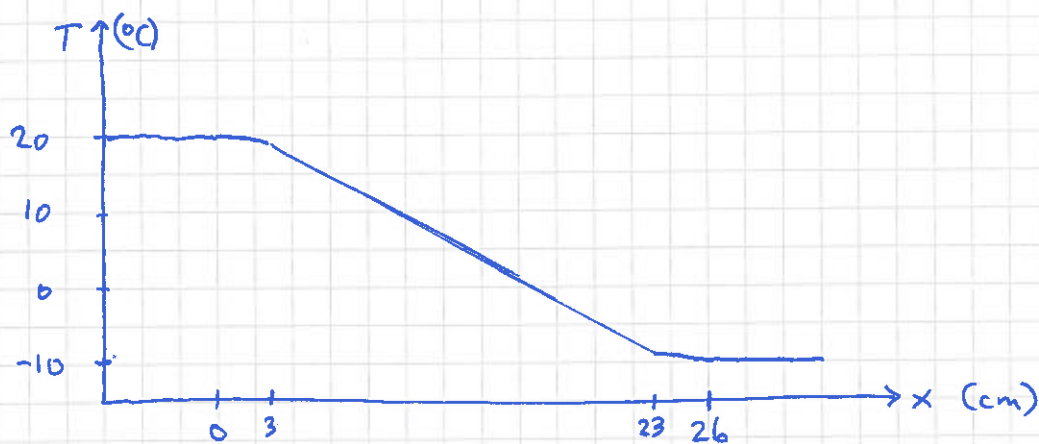
$$\begin{aligned} \text{a) } j_x &= 30 \text{ K} \cdot \left\{ 2 \cdot 0.03 \text{ m} / 0.12 \text{ W/m}\cdot\text{K} + 0.20 \text{ m} / 0.035 \text{ W/m}\cdot\text{K} \right\}^{-1} \\ &= 30 \text{ K} \cdot \left\{ 0.5 \text{ m}^2 \cdot \text{K/W} + 5.71 \text{ m}^2 \cdot \text{K/W} \right\}^{-1} \\ &= 30 \cdot 0.16 \text{ W/m}^2 = \underline{\underline{4.8 \text{ W/m}^2}} \end{aligned}$$

$$\text{b) } T_4 - T_3 = j_x \cdot a_{gran} / \lambda_{gran} = 4.8 \frac{\text{W}}{\text{m}^2} \cdot \frac{0.03 \text{ m}}{0.12 \text{ W/m}\cdot\text{K}} = 1.2 \text{ K}$$

$$\Rightarrow T_2 - T_1 = T_4 - T_3 = 1.2 \text{ K}$$

$$\Rightarrow T_3 - T_2 = 30 \text{ K} - 2.4 \text{ K} = 27.6 \text{ K}$$

$$\text{Dvs } T_3 = 18.8^\circ\text{C}, T_2 = -8.8^\circ\text{C}$$



Dvs praktisk tatt hele ΔT over glavalaget!

Men: Panel + papp nødvendig for å hindre at det blåser rett gjennom, selvsagt.

Varmeledning ligningen [LHL 18.5 ; HS 13.1]

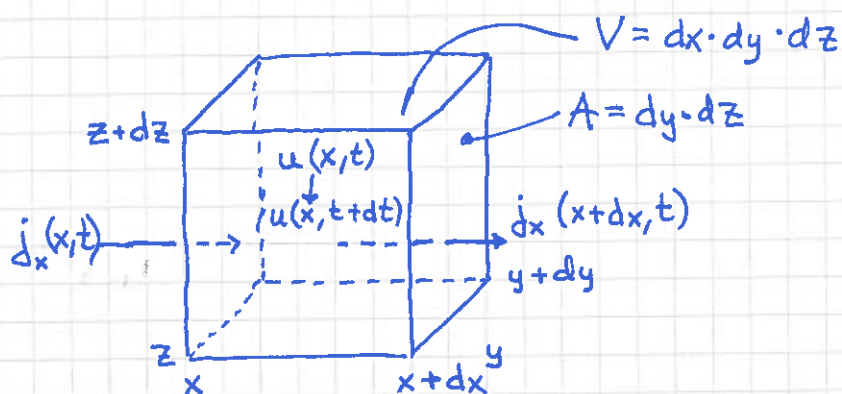
140

Vi skal vis at med energi bevarelse samt Fouriers lov ($j \sim \nabla T$) får vi følgende generelle diff.-ligning for $T(\vec{r}, t)$:

$$\boxed{\frac{\partial T}{\partial t} = D_T \nabla^2 T} \quad \text{som er varmeledning ligningen}$$

(med $D_T = \kappa / \rho c$; $\rho =$ masse pr volumenet,
 $c =$ varmekapasitet pr masseenh.)

Vi tar for oss et lite men fast volum av et stoff:



Her er:

$u =$ (indre) energi pr volumenet

($\Rightarrow U = u \cdot V =$ energi i volumet $V = A \cdot dx$)

$j_x =$ varmestrøm tetthetens x -komponent ($\vec{j} = j_x \hat{x} + j_y \hat{y} + j_z \hat{z}$)

Det må nå forholde seg slik at dersom det er en netto tilstrømning av energi (varme), dvs dersom $j_x(x, t) \neq j_x(x + dx, t)$, så må det resultere i at energien U , og dermed $u = U/V$ (fast volum V !), endrer seg, dvs $u(x, t) \neq u(x, t + dt)$.

[Her ser vi først på bidraget til endringen i u som skyldes j_x ; deretter er det en smal sak å gjenta argumentasjonen for j_y og j_z !]

Netto tilført energi utenfra mellom t og $t+dt$:

$$j_x = \frac{dU}{A \cdot dt} \Rightarrow dU = j_x \cdot A \cdot dt$$

$$\begin{aligned} \Rightarrow dU &= dU_{inn} - dU_{ut} \\ &= j_x(x,t) \cdot A \cdot dt - j_x(x+dx,t) \cdot A \cdot dt \\ &= - \frac{\partial j_x}{\partial x} \cdot \underbrace{dx}_{=V} \cdot A \cdot dt \quad \left(\text{sidan } \frac{\partial j_x}{\partial x} = \frac{j_x(x+dx) - j_x(x)}{dx} \right) \end{aligned}$$

Energiendring i V i løpet av dt :

$$\begin{aligned} dU &= U(x,t+dt) - U(x,t) \\ &= u(x,t+dt) \cdot V - u(x,t) \cdot V \\ &= \frac{\partial u}{\partial t} \cdot dt \cdot V \quad \left(\text{sidan } \frac{\partial u}{\partial t} = \frac{u(t+dt) - u(t)}{dt} \right) \end{aligned}$$

Likhet mellom dU og dU (!) gir nå:

$$\frac{\partial u}{\partial t} = - \frac{\partial j_x}{\partial x}$$

På samme vis blir netto tilførsel av energi $-\frac{\partial j_y}{\partial y} \cdot V \cdot dt$
 og $-\frac{\partial j_z}{\partial z} \cdot V \cdot dt$ dersom hhv j_y og j_z ikke er konstante.

Netto energitilførsel mellom t og $t+dt$ blir dermed

$$- \left(\frac{\partial j_x}{\partial x} + \frac{\partial j_y}{\partial y} + \frac{\partial j_z}{\partial z} \right) \cdot V \cdot dt \equiv -(\nabla \cdot \vec{j}) \cdot V \cdot dt$$

$$\text{Her er: } \nabla = \hat{x} \frac{\partial}{\partial x} + \hat{y} \frac{\partial}{\partial y} + \hat{z} \frac{\partial}{\partial z}$$

$$\vec{j} = \hat{x} j_x + \hat{y} j_y + \hat{z} j_z$$

$$\nabla \cdot \vec{j} = \frac{\partial j_x}{\partial x} + \frac{\partial j_y}{\partial y} + \frac{\partial j_z}{\partial z} = \text{divergensen til } \vec{j} \quad (= \text{div } \vec{j})$$

Dermed: $\frac{\partial u}{\partial t} + \nabla \cdot \vec{j} = 0$

Energibevarelse for $V = dx \cdot dy \cdot dz$,
 der "lokalt", på stedet (x, y, z) .
 ["Kontinuitetsligning"; her for energi]

Knytter \vec{j} og u til T :

$$\vec{j} = -\kappa \nabla T \Rightarrow \nabla \cdot \vec{j} = -\kappa \nabla^2 T \quad (\text{der vi antar } \kappa = \text{konstant,} \\ \text{dvs uniformt medium})$$

Her er $\nabla^2 T = \nabla \cdot (\nabla T) = \partial^2 T / \partial x^2 + \partial^2 T / \partial y^2 + \partial^2 T / \partial z^2$

$\nabla^2 =$ "div grad" = Laplaceoperatoren

$$G = \frac{dQ}{dT} \stackrel{\text{fast } V}{=} \frac{dU}{dT} = V \cdot \frac{du}{dT} \Rightarrow \frac{du}{dT} = \frac{G}{V}$$

$$du = \frac{\partial u}{\partial T} dT \quad \text{siden } dV=0 \quad (\text{fast volum!}) \Rightarrow \frac{du}{dT} = \frac{\partial u}{\partial T}$$

Videre, med kjernerregelen:

$$\frac{\partial u}{\partial t} = \frac{\partial u}{\partial T} \frac{\partial T}{\partial t} \stackrel{\text{se over!}}{=} \frac{du}{dT} \frac{\partial T}{\partial t} = \frac{G}{V} \cdot \frac{\partial T}{\partial t}$$

Innfører:

$c = G/M =$ varmekap. pr masseenhet ; $[c] = \text{J/kg}\cdot\text{K}$

$\mu = M/V =$ masse pr volumenhet ; $[\mu] = \text{kg/m}^3$

$$\Rightarrow \frac{G}{V} = \frac{M \cdot c}{M/\mu} = c \cdot \mu$$

Dermed:

$$\frac{\partial u}{\partial t} = -\nabla \cdot \vec{j} \Rightarrow c \cdot \mu \frac{\partial T}{\partial t} = +\kappa \nabla^2 T \Rightarrow \frac{\partial T}{\partial t} = \frac{\kappa}{c \mu} \nabla^2 T$$

Innfører $D_T \equiv \kappa / c \mu =$ stoffets termiske diffusivitet,

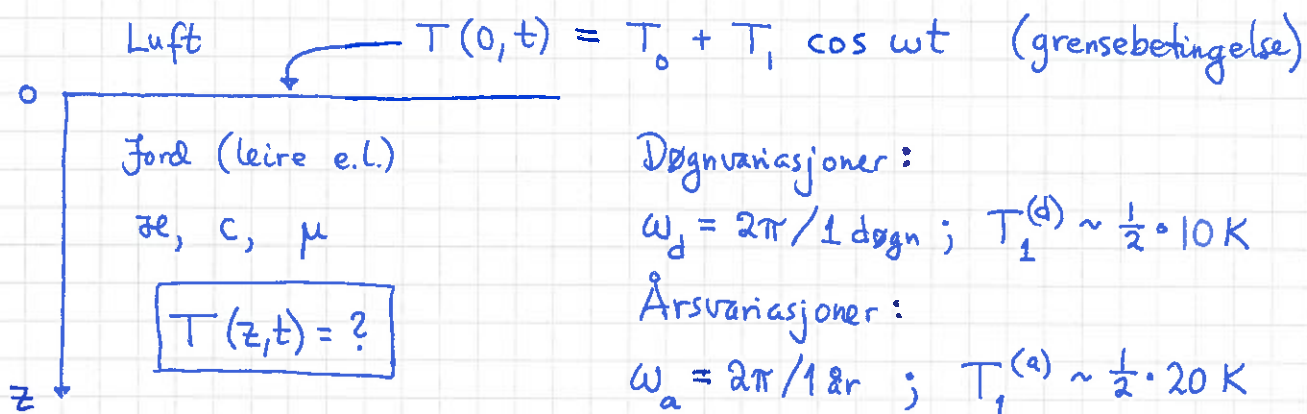
med enheten $[D_T] = \text{m}^2/\text{s}$, og får

$$\boxed{\frac{\partial T}{\partial t} = D_T \nabla^2 T}$$

$$D_T = \kappa / c \mu$$

som lovet!

Eks: $T(z,t)$ nedover i bakken



Løsning: Vi gjetter $T(z,t) = T_0 + T_1 \cdot f(z) \cdot \cos(\omega t - \alpha z)$!!

Innsetting av gjetningen i ligningen $\partial T / \partial t = D_T \partial^2 T / \partial z^2$ gir $f(z) = \exp(-\alpha z)$ og $\alpha = \sqrt{\omega / 2D_T}$, slik at

$T(z,t) = T_0 + T_1 e^{-\alpha z} \cos(\omega t - \alpha z)$

Tallverdier for leire:

	k (W/m·K)	c (kJ/kg·K)	μ (kg/m ³)	D_T (m ² /s)	$\frac{1}{\alpha_d}$ (cm)	$\frac{1}{\alpha_a}$ (cm)
Tørr	0.15	1.4	$1.1 \cdot 10^3$	$1.0 \cdot 10^{-7}$	5	100
Våt	1.8	2.5	$1.8 \cdot 10^3$	$4.0 \cdot 10^{-7}$	10	200

Dvs: Ved dybden $z = \pi / \alpha_a \approx 3 \text{ m}$ (6m) ned i tørr (våt) leire er $T(z,t) = T_0 + T_1^{(a)} e^{-\pi} \cos(\omega_a t - \pi)$ som er maksimal ca 1/2 år senere enn når $T(0,t)$ er maksimal, dvs midt på vinteren!

Men amplituden er liten:

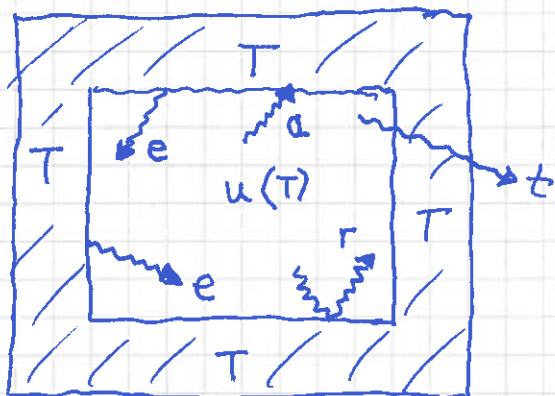
$T_1^{(a)} \cdot e^{-\pi} \approx \frac{1}{2} \cdot 20 \text{ K} \cdot 0.04 \approx \underline{0.4 \text{ K}}$

Stråling [YF 17.7; LHL 18.4; HS 13.3]

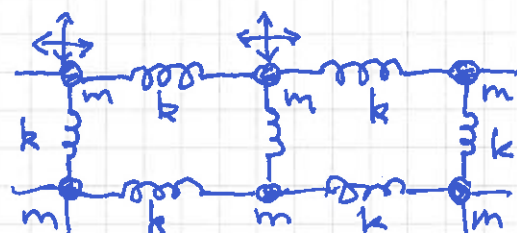
(144)

Innledning

Ser på hulrom, volum V , i termisk likevekt med boksens vegger:



- boks med temperatur T
- vibrerende atomer i veggene:



- dvs, vi har akselererte ladninger i veggene, og akselererte ladninger sender ut (emitterer) elektromagnetiske bølger, dvs stråling

- emitterte bølger kan

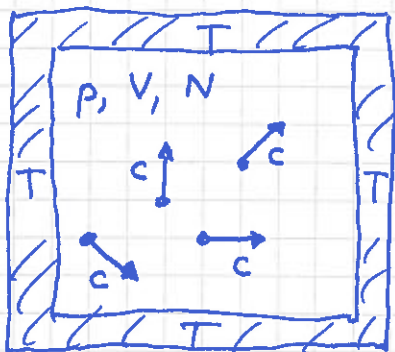
$$\left. \begin{array}{l} \underline{\text{a}}\text{bsorberes} \quad (\text{andel } a) \\ \underline{\text{r}}\text{eflekteres} \quad (\text{--- } r) \\ \text{eller } \underline{\text{t}}\text{ransmitteres} \quad (\text{--- } t) \end{array} \right\} \Rightarrow a + r + t = 1$$

- et svart legeme defineres ved at $\boxed{a=1}$ (dvs $r=t=0$)

- hulrommet fylles med e.m. stråling, dvs fotoner, og energimengden pr volumenheter, $u = U/V$, blir bestemt av temperaturen, $u = u(T)$

Stefan - Boltzmanns lov

Hvordan avhenger u av temperaturen; $u(T) = ?$



- har N fotoner i hulrommet
- fotonenes hastighet: $v = c$ ($\approx 3 \cdot 10^8$ m/s)
- generelt, for partikler med svært høy hastighet ("relativistiske partikler"):

$$E^2 = (mc^2)^2 + (Pc)^2$$

↑ ↑ ↑
energi masse impuls

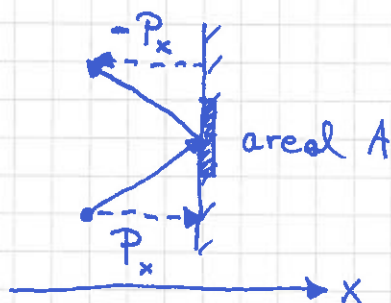
• fotoner: $m = 0 \Rightarrow E = Pc$

Planck: $E = hf$; $h =$ Plancks konstant; $f =$ fotonets frekvens

$\Rightarrow Pc = hf \Rightarrow P = h \cdot f/c = h/\lambda$; $\lambda =$ " " bølglengde

- kinetisk gass teori (se s. 92-94) gir trykket i fotongassen:

$$P \stackrel{\text{def}}{=} \langle F_x \rangle / A = \langle \Delta P_x / \Delta t \rangle / A$$



$\Delta \tilde{P}_x = 2P_x$ [Termisk likevekt innebarer at vegg \perp x-aksen. for hvert absorberte foton med impuls $\vec{P} = (P_x, P_y, P_z)$ vil emittere et foton med impuls $(-P_x, P_y, P_z)$]

$\Delta \tilde{P}_x = 2P_x =$ impuls overført til vegg per partikkel (foton)

Antall fotoner som treffer A i løpet av tid Δt :

$$\frac{1}{2} N \cdot \frac{A \cdot v_x \cdot \Delta t}{V} \quad (\text{se s. 93})$$

$$\Rightarrow p = \frac{\langle \frac{1}{2} N \frac{A v_x \Delta t}{V} \cdot 2 P_x / \Delta t \rangle}{A} = \frac{N}{V} \langle P_x \cdot v_x \rangle \quad (146)$$

$$\text{Isotropi} \Rightarrow \langle P_x v_x \rangle = \frac{1}{3} \langle \vec{P} \cdot \vec{v} \rangle = \frac{1}{3} \langle P \cdot v \rangle$$

$$P = E/c, \quad v = c \Rightarrow P \cdot v = E$$

$$\text{Fotongassens (indre) energi: } U = N \langle E \rangle$$

$$\Rightarrow p = \frac{1}{3} \frac{N \langle E \rangle}{V} = \frac{1}{3} \frac{U}{V} = \frac{1}{3} u$$

På s. 123-124 utledet vi et generelt uttrykk for dS , uttrykt ved dT og dV . Underveis, s. 124, fant vi at

$$\left(\frac{\partial U}{\partial V} \right)_T + p = T \left(\frac{\partial p}{\partial T} \right)_V$$

som vi nå får god bruk for:

$$\left(\frac{\partial U}{\partial V} \right)_T = \frac{\partial}{\partial V} [u(T) \cdot V] = u(T)$$

$$\left(\frac{\partial p}{\partial T} \right)_V = \frac{\partial}{\partial T} \left[\frac{1}{3} u(T) \right] = \frac{1}{3} \frac{du(T)}{dT}$$

Dermed:

$$u + \frac{1}{3} u = T \cdot \frac{1}{3} \frac{du}{dT}$$

$$\Rightarrow 4u = T \frac{du}{dT} \Rightarrow \frac{du}{u} = 4 \frac{dT}{T}$$

$$\Rightarrow \ln u = 4 \ln T + \ln A \quad (A = \text{konst.})$$

$$\Rightarrow u(T) = A \cdot T^4$$

147

Vi er strengt tatt på jakt etter

$j_s(T)$ = emittert strålingsenergi pr flateenhet og pr tidsenhet fra et svart legeme med temperatur T

Vi skal finne $j_s(T)$ fra $u(T)$, ved å benytte oss av at i termisk likevekt må legemet absorbere og emitte nøyaktig like mye energi pr flate- og tidsenhet, noe som må gjelde for enhver bølgelengde. Vi bestemmer derfor absorbert energimengde, og har da samtidig fastlagt emittert energimengde!

Ser på energistrøm mot areal A av veggen pr flate- og tidsenhet =

$$\text{volum } dV = A \cdot dx$$



$$j_s(T) = \left\langle \frac{1}{2} \cdot \frac{dU}{A \cdot dt} \right\rangle$$

↑
halvparten av fotonene går mot høyre!

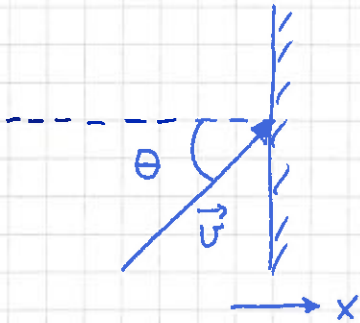
$$dU = u(T) dV = u(T) A dx$$

$$v_x = dx/dt$$

$$\Rightarrow j_s(T) = \left\langle \frac{1}{2} \frac{u(T) A dx}{A dt} \right\rangle = \frac{1}{2} u(T) \langle v_x \rangle$$

Det er klart at $\langle v_x \rangle$ må bli c multiplisert med et tall mindre enn 1, slik at vi allerede kvalitativt kan konkludere med at $j_s(T) \sim T^4$.

Vi regner ut $\langle v_x \rangle$ ved å midle over alle mulige retninger på \vec{v} , dog slik at $v_x > 0$:



$$\vec{v} = c \cdot \hat{u}$$
$$v_x = c \cdot \cos \theta$$

$$\langle v_x \rangle = \frac{\iint v_x d\Omega}{\iint d\Omega} ; \quad d\Omega = \sin \theta d\theta d\phi$$

= romvinklelement

$0 \leq \phi \leq 2\pi$ (dekker ^{ulike} retninger for gitt θ ved å rotere omkring x-aksen (-----))

$0 \leq \theta \leq \frac{\pi}{2}$ (vinkel mellom \vec{v} og -----, se figur; $\theta > \pi/2$ tilsvarer $v_x < 0$)

$$\Rightarrow \langle v_x \rangle = c \cdot \frac{\int_0^{2\pi} d\phi \int_0^{\pi/2} d\theta \sin \theta \cos \theta}{\int_0^{2\pi} d\phi \int_0^{\pi/2} d\theta \sin \theta} = c \cdot \frac{\int_0^{\pi/2} \frac{1}{2} \sin^2 \theta}{\int_0^{\pi/2} (-\cos \theta)} = \frac{c}{2}$$

$$\Rightarrow j_s(T) = \frac{1}{4} c u(T) = \frac{1}{4} c AT^4 = \sigma T^4$$

med $\sigma = 5.67 \cdot 10^{-8} \text{ W/m}^2 \cdot \text{K}^4$ = Stefan-Boltzmanns konstant

Stefan-Boltzmanns lov, $j_s(T) = \sigma T^4$, må gjelde for alle mulige bølgelengder hver for seg, og dermed også totalt.

Plancks fordelingslov

(149)

Energien i strålingshulrommet vil bestå av fotonenergier som tilsvarer alle mulige frekvenser, $0 \leq f \leq \infty$.

For gitt temp. T , hvor mye bidrar ulike frekvenser til $u(T)$?

$$u(T) = \int du = \int_0^{\infty} df \frac{du}{df} = \int_0^{\infty} df \eta(f, T)$$

der $\eta(f, T) = du/df =$ energi pr volum- og frekvensenhet

[der $du = df \eta(f, T) =$ energi pr volumenhet fra fotoner med frekvens mellom f og $f+df$]

Oppskriften for å bestemme $\eta(f, T)$ er grovt sett slik:

- se på et hulrom med volum $V = L_x \cdot L_y \cdot L_z$
- for et gitt materiale i veggene vil Maxwells ligninger for elektrisk felt \vec{E} og magnetfelt \vec{B} gi oss grensebetingelser for \vec{E} (og \vec{B}) i grenseflaten mellom hulrom og vegg.
- dele ut faslekker de mulige bølglengder λ , og dermed de mulige frekvenser f for bølgene i hulrommet; med andre ord de mulige frekvensene mellom f og $f+df$, og dermed antall mulige frekvenser pr frekvensenhet, den såkalt tilstandsletheten (evt. modetetheten)

- resultatet blir at antall mulige frekvenser pr volum- og frekvensenhet er proporsjonalt med f^2 , og med prop.faktor $8\pi/c^3$.

- klassisk elektromagnetisme gir en energitetthet

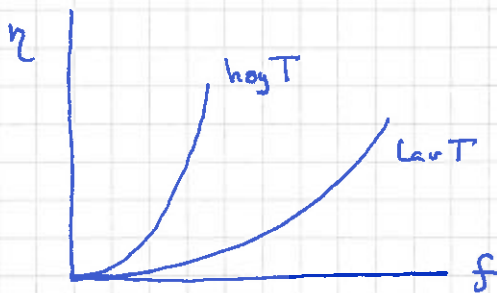
$$u = \frac{1}{2} \epsilon_0 E^2 + \frac{1}{2\mu_0} B^2$$

der \vec{E} = elektrisk felt og \vec{B} = magnetfelt, og ϵ_0 og μ_0 er naturkonstanter. Ifølge det klassiske ekvipartisjonsprinsippet (s.101-102) blir da midlere energi pr "svingemode"

$$\langle E \rangle = 2 \cdot \frac{1}{2} k_B T = k_B T$$

siden det er 2 kvadratiske ledd i energifunksjonen u .

- dermed: $\eta(f, T) = k_B T \cdot 8\pi f^2 / c^3$ (klassisk!)

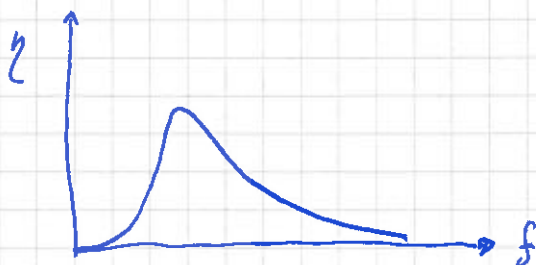


- dette resultatet er problematisk, og heldigvis feil!

Problematisk, fordi

$$u(T) = \int_0^{\infty} df \eta(f, T) = \frac{8\pi k_B T}{c^3} \int_0^{\infty} f^2 df = \infty$$

Feil, fordi observert fordeling ser slik ut:



- løsningen ligger i Plancks hypotese (1900):

(151)

$$E(f) = 0, hf, 2hf, \dots = j \cdot hf \quad (j = 0, 1, 2, \dots)$$

Statistisk mekanikk gir nå: (se s 104)

$$\langle E \rangle = \frac{\sum_{j=0}^{\infty} E_j \exp(-E_j/k_B T)}{\sum_{j=0}^{\infty} \exp(-E_j/k_B T)} = \frac{\sum_{j=0}^{\infty} j hf \exp(-j hf/k_B T)}{\sum_{j=0}^{\infty} \exp(-j hf/k_B T)}$$

= endel algebra.....

$$= \frac{hf}{\exp(hf/k_B T) - 1}$$

slik at

$$\eta(f, T) = \frac{8\pi h f^3 / c^3}{\exp(hf/k_B T) - 1}$$

som stemmer med observert fordeling (nederst s. 150)

- energi pr volumenheter blir dermed

$$u(T) = \int_0^{\infty} df \eta(f, T) = \dots \text{endel algebra} \dots$$

$$= \frac{8\pi^5 k_B^4}{15 h^3 c^3} \cdot T^4$$

slik at (se s 148)

$$\underline{j_s(T)} = \frac{1}{4} c u(T) = \frac{2\pi^5 k_B^4}{15 h^3 c^2} \cdot T^4 = \underline{\sigma \cdot T^4}$$

med $\sigma \approx 5.67 \cdot 10^{-8} \text{ W/m}^2 \cdot \text{K}^4$; Stefan-Boltzmanns lov

———— " ———— konstant

- ved å sette $\partial \eta / \partial f = 0$ finner en η_{\max}
for $hf/k_B T = 2.821$, dvs $f(\eta_{\max})/T = 5.9 \cdot 10^{10} \text{ Hz/K}$

- videre kan en skrive

$$u(T) = \int_0^{\infty} d\lambda \xi(\lambda)$$

$$\text{med } \xi(\lambda) = du/d\lambda = \frac{du}{df} \cdot \frac{df}{d\lambda},$$

dvs som en fordeling over bølglengder λ .

Med $\eta = du/df$ fra s. 151 og $f = c/\lambda$, er det en "smal sak" å vise at

$$\xi(\lambda) = \frac{8\pi hc/\lambda^5}{\exp(hc/\lambda k_B T) - 1}$$

som har et maksimum for

$$\lambda_{\max} \cdot T \approx 2.90 \cdot 10^{-3} \text{ m} \cdot \text{K}$$

dvs Wiens forskyvningslov

Stråling; eksempler

(153)

- Estimer varmetapet fra en naken kropp pga stråling, i omgivelser ved -5°C . (Hudens overflate: ca 30°C)

Løsning:

$$\begin{aligned}j_{\text{netto}} &= j_{\text{ut}} - j_{\text{inn}} = \sigma (T_{\text{hud}}^4 - T_{\text{omg}}^4) \\ &= 5,67 \cdot 10^{-8} \frac{\text{W}}{\text{m}^2 \text{K}^4} (303^4 - 268^4) \text{K}^4 \\ &= (478 - 292) \text{W/m}^2 = 186 \text{W/m}^2\end{aligned}$$

Med $h=180\text{cm}$, $b \approx 35$ og $d \approx 15\text{cm}$ blir $A \approx 1,8\text{m}^2$

$$\begin{aligned}\Rightarrow Q_{\text{netto}} &= j_{\text{netto}} \cdot A \approx \underline{335\text{W}} \quad [\text{Vel, strengt tatt en effekt,} \\ (Q_{\text{ut}} &\approx 860\text{W brutto)} \quad \text{så kanskje heller } P_{\text{netto}} \approx 335\text{W}]\end{aligned}$$

- Sammenlign med energiinntak via mat.

Løsning:

Normalt matinntak tilsværer ca 2000kcal pr døgn, eller la oss si 10000kJ pr døgn, som tilsværer

$$P_{\text{inn}} = 10^7 \text{J} / 3600 \cdot 24\text{s} = \underline{116\text{W}}$$

Som er betydelig mindre enn både P_{brutto} og P_{netto} fra første oppg.

Kler eliminerer det meste av strålingstapet.

- Sammenlign utstrålt energi pr masseenheter fra sola og fra en voksen person.

Løsning:

$$\text{Sola har } M = 2 \cdot 10^{30} \text{kg} \quad \text{og} \quad P_{\text{ut}} = 3,9 \cdot 10^{26} \text{W}$$

$$\Rightarrow 1,95 \cdot 10^{-4} \text{W/kg}$$

$$\text{En voksen person har (f.eks.) } M = 86\text{kg} \quad \text{og} \quad P_{\text{ut}} = 860\text{W}$$

$$\Rightarrow 10 \text{W/kg}$$

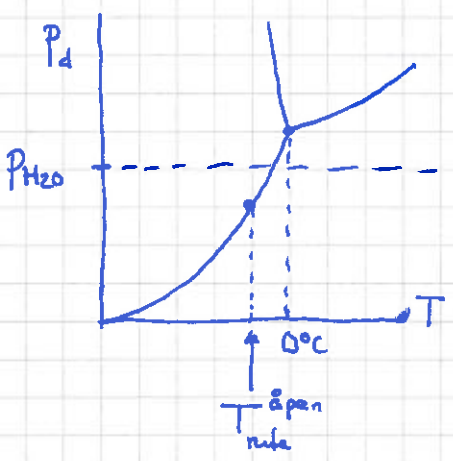
- Hvordan hindrer en carport (evt. en husvegg eller en skogkant) is og rim på bilruta?

Løsning:

Anta en klar vinternatt, uten vind og snø, og temperatur omkring 0°C. Himmelen stråler da effektivt som et svart legeme med temp. omlag 20 grader kaldere enn lufttemperaturen.

På åpen parkeringsplass foregår utveksling av strålingsenergi i stor grad mellom ruta og himmelen, og ruta kan bli en god del kaldere enn lufta omkring. I carport eller ved en vegg utveksler ruta strålingsenergi i stor grad med carportens tak eller husveggen, som begge har temp. omtrent som lufta omkring, og bare i liken grad med den kalde himmelen. Ruta's temperatur blir dermed omtrent som lufta omkring.

Anta nå at luftas partialtrykk P_{H_2O} ligger mellom damptrykket ved 0°C, $P_d(0)$, og damptrykket ved himmelens temp., $P_d(-20)$, eller retttere sagt $P_d(T_{\text{himmel}}^{\text{åpen}})$, der $T_{\text{himmel}}^{\text{åpen}}$ er ruta's temp. hvis bilen parkeres "åpent":



På ruta på bilen midt på parkeringsplassen er mengden vann i lufta så stor at $P_{H_2O} > P_d(T_{\text{himmel}}^{\text{åpen}})$, og vi får kondensasjon og rimdannelse. Men $P_{H_2O} < P_d(0°C)$, så bilen i carporten forblir rimfri!

- Jorda mottar 1370 W/m^2 fra sola. Avstanden til sola er 150 mill. km. Hva er da utstrålt effekt fra sola? (155)

Løsning:

$$P_{\text{sol}} = j(\text{fra sola, i avstand } 150 \cdot 10^9 \text{ m}) \cdot A \text{ (kuleflate med } R=150 \cdot 10^9 \text{ m)}$$

$$= 1370 \text{ W/m}^2 \cdot 4\pi \cdot (150 \cdot 10^9 \text{ m})^2$$

$$= \underline{\underline{3.9 \cdot 10^{26} \text{ W}}}$$

- Hva blir da solas overflatetemperatur, når sola har radius $7 \cdot 10^8 \text{ m}$?

Løsning:

$$T_{\text{sol}} = \left[j_{\text{sol}}(R_{\text{sol}}) / \sigma \right]^{1/4} = \left[\frac{P_{\text{sol}} / 4\pi R_{\text{sol}}^2}{\sigma} \right]^{1/4}$$

$$= \left[\frac{3.9 \cdot 10^{26} \text{ W} / (4 \cdot \pi \cdot (7 \cdot 10^8 \text{ m})^2)}{5.67 \cdot 10^{-8} \text{ W/m}^2 \text{K}^4} \right]^{1/4} \approx \underline{\underline{5800 \text{ K}}}$$

- Hva blir da jordas overflatetemp. (i middel)?

Løsning:

$$\text{J} \quad \boxed{A = \pi R_{\text{J}}^2}$$

$$\underbrace{1370 \frac{\text{W}}{\text{m}^2} \cdot \pi R_{\text{J}}^2}_{P_{\text{inn}}} = \underbrace{4\pi R_{\text{J}}^2 \cdot \sigma T_{\text{jord}}^4}_{P_{\text{ut}}}$$

$$\Rightarrow T_{\text{jord}} = \left[\frac{1370 \text{ W/m}^2}{4 \cdot 5.67 \cdot 10^{-8} \text{ W/m}^2 \text{K}^4} \right]^{1/4} = \underline{\underline{279 \text{ K}}}$$

Ikke verst; $T_{\text{observert}} \approx 288 \text{ K}$.

Vi har f.eks. neglisjert "drivhuseffekt" pga atmosfæren:

