

# Elektrostatikk

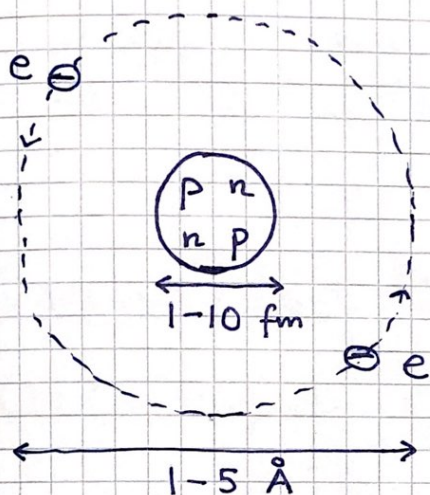
[OS2 5-8; YF 21-24; LHL 19-20]

(68)

## Elektrisk ladning [OS2 5.1; YF 21.1; LHL 19.1]

Materie = molekyler/atomer = atomkjerne og elektroner

Klassisk atommodell (Niels Bohr 1913, NP 1922):



$$1 \text{ fm} = 10^{-15} \text{ m}$$

$$1 \text{ \AA} (\text{\AA ngstr\AA om}) = 10^{-10} \text{ m}$$

Partikkel	Symbol	Masse (kg)	Ladning
Elektron	e	$9.11 \cdot 10^{-31}$	-e
Proton	p	$1.67 \cdot 10^{-27}$	+e
Neutron	n	$1.67 \cdot 10^{-27}$	0

Ladning er kvantisert, i enheter av

$$e = \text{element\AA rladningen} \equiv 1.602176634 \cdot 10^{-19} \text{ C}$$

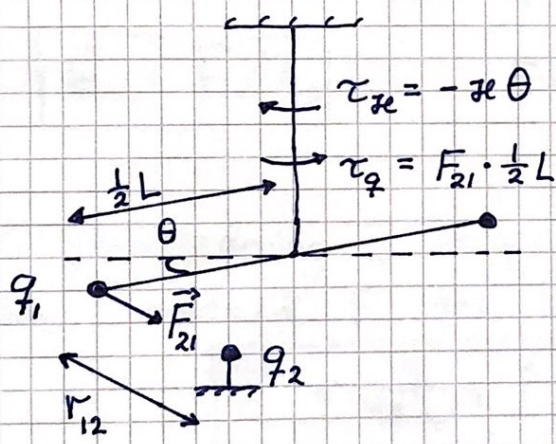
Symbol for ladning:  $q, Q$

Enhet:  $[Q] = \text{C}$  (coulomb)

- Nøytrale atomer med atomnummer  $Z$  har  $Z$  protoner og  $Z$  elektroner  $\Rightarrow Q = Z \cdot e - Z \cdot e = 0$
- Ioner: atomer og molekyler med  $Q \neq 0$ . Eks:  
 $F^-$ : fluorid,  $Z = 9$ , 10 elektroner,  $Q = -e$   
 $NH_4^+$ : ammonium,  $7+4$  protoner, 10 elektroner,  $Q = +e$
- Isotoper: samme grunnstoff, ulikt antall nøytroner  
 Eks:  $^{13}N$ ,  $^{14}N$ ,  $^{15}N$  har hhv 6, 7 og 8 nøytroner


### Coulombs lov [OS2 5.3; YF 21.3; LHL 19.3]

Charles Augustin de Coulomb, 1785:



Torsjonstråd med stang i likevekt når  $\tau_q + \tau_{re} = 0$

Coulomb fant at  $F_{21} \sim q_1 \cdot q_2 / r_{12}^2$ , og at samme type ladning gav frastøtning, mens ulik type ladning gav tiltrekning:



$$\vec{F}_{21} = \frac{1}{4\pi\epsilon_0} \frac{q_1 \cdot q_2}{r_{12}^2} \hat{r}_{12}$$


Coulombs lov

(70)

$\epsilon_0 \approx 8.85 \cdot 10^{-12} \text{ C}^2/\text{Nm}^2 = \text{vakuumpermittiviteten}$

$$\Rightarrow 1/4\pi\epsilon_0 \approx 9 \cdot 10^9 \text{ Nm}^2/\text{C}^2$$

Elektrisk felt [OS2 5.4-5.5; YF 21.3-21.5; LHL 19.3-19.5]



$$\vec{F} = \frac{q q_0}{4\pi\epsilon_0 r^2} \hat{r} = \text{kraft fra } q \text{ p\u00e5 } q_0$$

Elektrisk felt  $\stackrel{\text{def}}{=} \text{El. kraft pr ladningsenhet}$

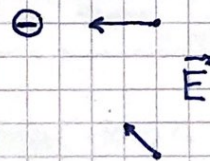
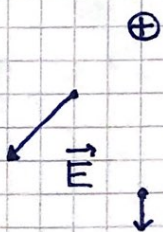
$$\vec{E} = \vec{F} / q_0$$

Enhet:  $[E] = \text{N/C}$


$\Rightarrow$  En punktladning  $q$  omgir seg med et el. felt  $\vec{E}$  som i avstand  $\vec{r}$  fra ladningen er

$$\vec{E} = \frac{q}{4\pi\epsilon_0 r^2} \hat{r}$$

dvs rettet radieelt utover ( $q > 0$ ) eller innover ( $q < 0$ ):



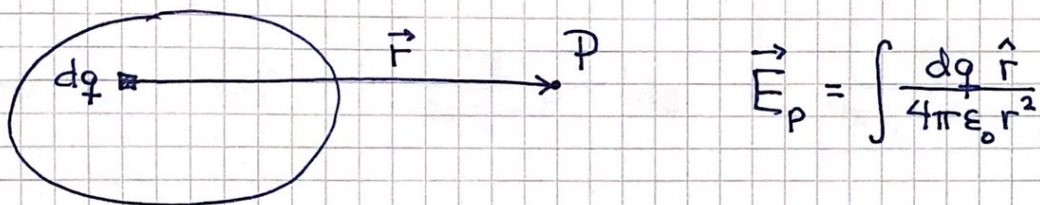
Med flere (referanse-) ladninger:



El. felt i posisjon P fra (ref.-)ladningene  $\{q_1, q_2, \dots, q_i, \dots\}$ :

$$\vec{E} = \sum_i \vec{E}_i = \sum_i \frac{\vec{F}_i}{q_0} = \sum_i \frac{q_i q_0 \hat{r}_i}{4\pi\epsilon_0 r_i^2 q_0} = \sum_i \frac{q_i \hat{r}_i}{4\pi\epsilon_0 r_i^2}$$

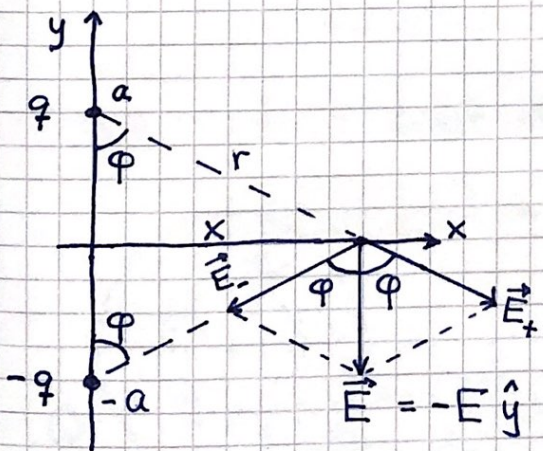
Med kontinuerlig ladningsfordeling:  $q_i \rightarrow dq$ ;  $\sum_i \rightarrow \int$



$$\vec{E}_P = \int \frac{dq \hat{r}}{4\pi\epsilon_0 r^2}$$

Eks 1: Enkel elektrisk dipol

Med punktladninger  $\pm q$  i pos.  $y = \pm a$ , hva er feltet  $\vec{E}$  i  $x$ , på  $x$ -aksen?



$$E = 2E_+ \cos\varphi \quad (E_- = E_+)$$

$$\cos\varphi = a/r = a/\sqrt{x^2 + a^2}$$

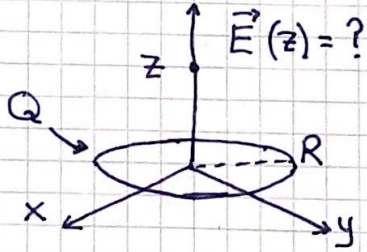
$$E_+ = q/4\pi\epsilon_0 r^2$$

$$\Rightarrow \vec{E} = -\hat{y} \cdot \frac{2qa}{4\pi\epsilon_0 (x^2 + a^2)^{3/2}}$$

Langt unna,  $x \gg a$ :  $x \approx r$

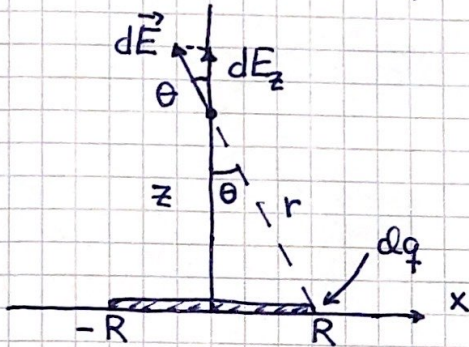
$$E(r) \sim \frac{1}{r^3}$$

Eks 2: Jevnt ladet ring, radius  $R$ , ladning  $Q$  (72)



- Pga symmetri:  $\vec{E}$  langs  $\hat{z}$  på  $z$ -aksen  $\Rightarrow \vec{E} = E_z \cdot \hat{z}$
- Langt unna ( $z \gg R$ ):  $E \approx \frac{Q}{4\pi\epsilon_0 z^2}$

Med  $\hat{y}$  inn i papirplanet:



Bidrag fra  $dq$  på  $x$ -aksen:

$$dE_z = dE \cdot \cos \theta$$

$$dE = dq / 4\pi\epsilon_0 r^2$$

$$\cos \theta = z/r = z / \sqrt{z^2 + R^2}$$

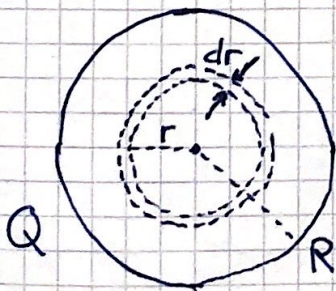
$$\Rightarrow E_z = \int dE_z = \frac{z}{4\pi\epsilon_0 r^3} \int dq = \frac{Qz}{4\pi\epsilon_0 (z^2 + R^2)^{3/2}}$$

Rimelig svar:

Enheten stemmer.  $E_z(0) = 0$ .  $E_z(-z) = -E_z(z)$ .

$E_z \approx Q / 4\pi\epsilon_0 z^2$  når  $z \gg R$ .

Eks 3: Jevnt ladet skive



= sum av tynne ringer med radius  $r$ , bredde  $dr$ , og ladning

$$dq = Q \cdot \frac{dA}{A} = Q \cdot \frac{2\pi r \cdot dr}{\pi R^2}$$

Fra Eks. 2 vet vi at ringen gir bidraget

(73)

$$dE_z = \frac{dq \cdot z}{4\pi\epsilon_0 (r^2 + z^2)^{3/2}} = \frac{Qz}{2\pi\epsilon_0 R^2} \cdot \frac{r \cdot dr}{(r^2 + z^2)^{3/2}}$$

til feltet på z-aksen (symmetriaksen). Dermed:

$$E_z = \int dE_z = \frac{Qz}{2\pi\epsilon_0 R^2} \int_0^R \frac{r}{(r^2 + z^2)^{3/2}} dr$$

$$\text{Her er } \int_0^R \frac{r}{(r^2 + z^2)^{3/2}} dr = \left|_0^R \left[ -(r^2 + z^2)^{-1/2} \right] \right| = \frac{1}{z} - \frac{1}{\sqrt{R^2 + z^2}}$$

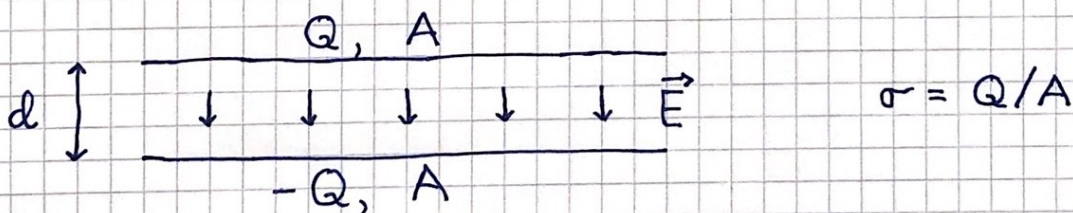
$$\Rightarrow E_z = \frac{Q}{2\pi\epsilon_0 R^2} \left[ 1 - \frac{1}{\sqrt{1 + R^2/z^2}} \right]$$

$$z \gg R : \left(1 + \frac{R^2}{z^2}\right)^{-1/2} \approx 1 - \frac{1}{2} \frac{R^2}{z^2} \Rightarrow E_z \approx \frac{Q}{4\pi\epsilon_0 z^2} \quad \text{OK!}$$

$$z \ll R : E_z \approx \frac{Q}{2\pi\epsilon_0 R^2} = \frac{\sigma}{2\epsilon_0} ; \sigma = \frac{Q}{\pi R^2} = \text{ladn. pr flateenhet}$$

Dvs: Konstant felt nær skiva!

Nyttig resultat: En kondensator er et kretselement med to metallplater som kan tilføres ladning  $\pm Q$ :



Med liten avstand  $d$  mellom platene blir feltet tilnærmet konstant mellom platene,

$$E \approx 2 \cdot \sigma / 2\epsilon_0 = \sigma / \epsilon_0$$

og  $E \approx 0$  utenfor.