

TFY4215 Innføring i kvantefysikk. Institutt for fysikk, NTNU.
Øving 4.

Oppgave 1

Hva er kommutatoren $[\hat{L}_z, \hat{p}_z]$?

- A $i\hbar\hat{p}_x$
- B $i\hbar\hat{p}_y$
- C \hat{L}_x
- D \hat{L}_y
- E Null

Oppgave 2

Hva er kommutatoren $[\hat{L}_z, \hat{p}_x]$?

- A $i\hbar\hat{p}_x$
- B $i\hbar\hat{p}_y$
- C \hat{L}_x
- D \hat{L}_y
- E Null

Oppgave 3

Hva er kommutatoren $[1/x, \hat{p}_x]$?

- A $\hbar x^2$
- B ix/\hbar
- C $\hbar x$
- D \hbar/ix^2
- E Null

Oppgave 4

En endimensjonal uendelig dyp potensialbrønn har bredde $3\Delta x$. Potensialet er null i brønnen og uendelig utenfor, for $x \leq 0$ og for $x \geq 3\Delta x$. Den tidsuavhengige Schrödingerligningen for en partikkel med masse m diskretiseres ved å sette

$$\frac{d^2\psi_n}{dx^2} = \frac{\psi_{n+1} - 2\psi_n + \psi_{n-1}}{(\Delta x)^2}.$$

Her er $n = 1, 2$ og $\psi_n = \psi(x_n) = \psi(n\Delta x)$. Vi innfører størrelsen $\varepsilon = \hbar^2/2m(\Delta x)^2$. Hva blir nå de tillatte energiene til denne partikkelen?

- A $-\varepsilon$ og ε B 0 og ε C ε og 2ε D ε og 3ε E 3ε og 4ε

Oppgave 5

Samme problemstilling som i forrige oppgave, men med brønnbredde $4\Delta x$. Hvilke tre energinivåer kan nå partikkelen befinne seg i?

- A $\varepsilon, 3\varepsilon$ og 5ε
- B $\varepsilon, 2\varepsilon$ og 6ε
- C $2\varepsilon, (2 \pm \sqrt{2})\varepsilon$
- D $3\varepsilon, (3 \pm \sqrt{3})\varepsilon$
- E $4\varepsilon, (4 \pm \sqrt{2})\varepsilon$

Oppgave 6

Et elektron befinner seg i det endimensjonale potensialet $V(x) = F_0 |x|$, med $F_0 = 0.8$ nN. Stasjonære tilstander (energiegentilstander) er $\psi_n(x)$, med tilhørende energieigenverdier E_n . Hvilke av følgende påstander om elektronets grunntilstand $\psi_1(x)$ er riktige?

1. $\psi_1(0) = 0$ 2. $\psi_1(x) = \psi_1(-x)$ 3. $\psi_1'(0) = 0$ 4. $\psi_1'(x) = \psi_1'(-x)$ 5. $\psi_1''(0) = 0$

- A 1 og 2
- B 2 og 3
- C 1 og 3
- D 1, 4 og 5
- E 2, 3 og 4

Oppgave 7

Med potensial som i forrige oppgave, hvilke av følgende påstander om første eksiterte tilstand $\psi_2(x)$ er riktige?

1. $\psi_2(0) = 0$ 2. $\psi_2(x) = \psi_2(-x)$ 3. $\psi_2'(0) = 0$ 4. $\psi_2'(x) = \psi_2'(-x)$ 5. $\psi_2''(0) = 0$

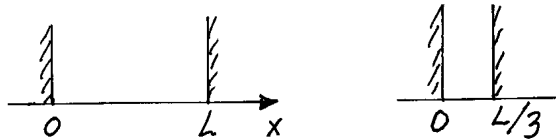
- A 1 og 2
- B 2 og 3
- C 1 og 3
- D 1, 4 og 5
- E 2, 3 og 4

Oppgave 8

De tre laveste energieigenverdiene i oppgave 6 er henholdsvis ca 0.97 eV, 2.27 eV og 3.13 eV. Omtrent hvor stort er da det klassisk tillatte området dersom elektronet befinner seg i grunntilstanden?

- A 0.1 nm B 0.2 nm C 0.3 nm D 0.4 nm E 0.5 nm

OPPGAVE 6 Litt av hvert



a. Jo mindre plass, desto høyere energi

Hva skjer med energinivået E_1 for grunntilstanden i et boks-potensial når vidden (L) av boksen reduseres til en tredel av den opprinnelige? (Partikkelen i boksen har masse m , og energieigenfunksjonen for grunntilstanden er $\psi_1(x) = \sqrt{2/L} \sin(\pi x/L)$ når boksen har lengde L .)

b. $\langle V \rangle$ og $\langle K \rangle$ for grunntilstanden i hydrogen

Vi har sett at energiegentilstanden

$$\psi_1 = (\pi a_0^3)^{-1/2} e^{-r/a_0}$$

for elektronet i Coulomb-potensialet $V = -e^2/(4\pi\epsilon_0 r)$ (som i realiteten er grunntilstanden) har energien $E_1 = -\frac{1}{2}\alpha^2 m_e c^2 (\approx -13.6 \text{ eV})$. Vis at forventningsverdiene av den kinetiske og den potensielle energien i denne tilstanden er

$$\langle V \rangle = 2E_1 (\approx -27.2) \text{ eV} \quad \text{og} \quad \langle K \rangle = -E_1 (\approx 13.6) \text{ eV}.$$

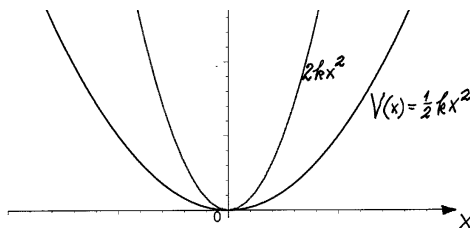
Opgitt:

$$\int_0^\infty x^n e^{-\alpha x} dx = \frac{n!}{\alpha^{n+1}}.$$

c. Estimat av $\langle K \rangle$

Gjør et enkelt *overslag* av $\langle K \rangle = \langle p_x^2 + p_y^2 + p_z^2 \rangle / 2m$ for hydrogentilstanden ψ_1 , ved hjelp av uskarphetsrelasjonen (se side 4 i dette oppgavesettet), og sammenlign med formelen ovenfor. [Hint: Anta at $\Delta p_x \approx \frac{1}{2}\hbar/a_0$ osv, og bruk at $\langle p_x \rangle = \langle p_y \rangle = \langle p_z \rangle = 0$. Merk at $(\Delta p_x)^2 = \langle p_x^2 \rangle - \langle p_x \rangle^2$. Det kan hende du får bruk for å vise at Rydberg-energien $\frac{1}{2}\alpha^2 m_e c^2$ også kan skrives på formen $\hbar^2/(2m_e a_0^2)$.]

d. Sammenheng mellom energinivåer og fjærkonstant for oscillatoren



Hva skjer med energinivåene $E_0 = \frac{1}{2}\hbar\omega$ og $E_1 = \frac{3}{2}\hbar\omega$ for grunntilstanden og første eksiterte tilstand for oscillatoren i oppgave 5a (og 3a) dersom vi erstatter potensialet $V(x) = \frac{1}{2}kx^2 \equiv \frac{1}{2}m\omega^2 x^2$ med et potensial som er fire ganger så sterkt (dvs firedobler fjærkonstanten)? [Hint: Finn ut hva som skjer med den klassiske vinkelfrekvensen ω når k firedobles.]

e. Valg av nullpunkt for potensiell energi

Vi kan egentlig velge fritt hvor vi vil legge nullpunktet for et potensial. (Dette endrer jo ikke kraften.) Hva blir energinivåene og energieigenfunksjonene for grunntilstanden og første eksiterte tilstand for potensialet $V_1(x) = \frac{1}{2}m\omega^2 x^2 - \frac{1}{2}\hbar\omega$? Hint: Skissér det nye potensialet, $V_1(x)$, sammen med standard-potensialet for den harmoniske oscillatoren, $V(x) = \frac{1}{2}m\omega^2 x^2$. Dette skulle gi en god pekepinn.

Dersom du fortsatt er i tvil, kan vi opplyse om at energieigenfunksjonene $\psi_n(x)$ for standardpotensialet oppfyller egenverdligningen

$$\widehat{H}\psi_n(x) \equiv \left[-\frac{\hbar^2}{2m} \frac{\partial^2}{\partial x^2} + \frac{1}{2}m\omega^2 x^2 \right] \psi_n(x) = E_n \psi_n(x), \quad E_n = \hbar\omega(n + \frac{1}{2}), \quad n = 0, 1, 2, \dots,$$

dvs at energieigenverdiene for standardpotensialet er $E_n = \hbar\omega(n + \frac{1}{2})$. Denne ligningen kan lett omskrives til

$$\left[-\frac{\hbar^2}{2m} \frac{\partial^2}{\partial x^2} + (\frac{1}{2}m\omega^2 x^2 - \frac{1}{2}\hbar\omega) \right] \psi_n(x) = n\hbar\omega \psi_n(x),$$

som er energieigenverdligningen for potensialet $V_1(x)$.

f. Et eksempel til

Hva er grunntilstandsenergien E_1 for en partikkel med masse m i det endimensjonale potensialet

$$V(x) = \begin{cases} V_0 & \text{for } 0 < x < L \\ \infty & \text{for } x < 0 \text{ og } x > L \end{cases} \quad ?$$

(V_0 er en konstant med dimensjon energi.)

g. Valg av koordinatsystem

Vi står også fritt når det gjelder valg av koordinatsystem, f.eks hvor vi plasserer origo. (Dette kan ikke endre noe på selve fysikken i problemstillingen.) Hva blir energien og energieigenfunksjonen for grunntilstanden for en partikkel med masse m i potensialet

$$V(x) = \frac{1}{2}m\omega^2(x - a)^2 \quad ?$$

— — — * * * — — —

Så en liten **innledning** til den neste oppgaven:

I bølgeteori lærer en at jo kortere en bølgegruppe (eller bølgepakke)

$$f(x) = \frac{1}{\sqrt{2\pi}} \int_{-\infty}^{\infty} g(k) e^{ikx} dk$$

er, desto større blir nødvendigvis usikkerheten Δk i bølgetallet. Med $k = p_x/\hbar$ kan vi tilsvarende si at jo kortere en bølgegruppe

$$\psi(x) = \frac{1}{\sqrt{2\pi\hbar}} \int_{-\infty}^{\infty} \phi(p_x) e^{ip_x x/\hbar} dp_x$$

er, desto større må usikkerheten Δp_x i impulsen ($\Delta p_x = \hbar\Delta k$) være. Omvendt kan vi alltid gjøre Δp_x liten [ved å velge en "smal" funksjon $\phi(p_x)$ eller $g(k)$], men dette vil

da “straffe seg” ved at bølgen $\psi(x)$ blir svært lang, dvs vi får en stor usikkerhet Δx i partikkelens posisjon.¹

I tråd med dette kan det vises at usikkerhetsproduktet $(\Delta x)_\psi(\Delta p_x)_\psi$ aldri kan bli mindre enn $\frac{1}{2}\hbar$, uansett hvilken form vi velger for $\psi(x)$. I kap. 4.5 i Hemmer er det vist at denne såkalte **uskarphetsrelasjonen**,

$$\Delta x \cdot \Delta p_x \geq \frac{1}{2}\hbar \quad (\text{Heisenbergs uskarphetsrelasjon}),$$

er et spesialtilfelle av en mer generell uskarphetsrelasjon for to fysiske størrelser F og G ,

$$(\Delta F)_\Psi(\Delta G)_\Psi \geq \frac{1}{2} | \langle i[\hat{F}, \hat{G}] \rangle_\Psi | \quad \forall (\text{kvadratisk integrerbare}) \Psi.$$

Fra den siste relasjonen framgår det at Heisenbergs uskarphetsrelasjon er en konsekvens av at x og \hat{p}_x ikke kommuterer:

$$[x, \hat{p}_x] = i\hbar.$$

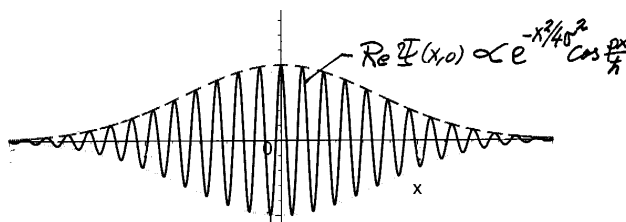
Det er denne relasjonen som (via ulikheten ovenfor) hindrer observablene x og p_x i å ha skarpe verdier samtidig.

Et annet eksempel på observable som ikke kan ha skarpe verdier samtidig har en i komponentene $L_x = yp_z - zp_y$, $L_y = zp_x - xp_z$ og $L_z = xp_y - yp_x$ av dreieimpulsen $\mathbf{L} = \mathbf{r} \times \mathbf{p}$ for en partikkel. [Jf ligning (T2.10) i Tillegg 2.] Disse er som vi skal se viktige observable for systemer som beskrives vha kulesymmetriske potensialer, som f.eks H-atomet.

OPPGAVE 7 Bølgepakke for fri partikkel

I denne oppgaven ser vi på et “system” som ganske enkelt består av en fri partikkel med masse m . Anta at dette systemet (eller egentlig et *ensemble* av slike) prepareres i en tilstand som ved $t = 0$ beskrives ved bølgefunksjonen²

$$\Psi(x, 0) = (2\pi\sigma^2)^{-1/4} e^{-x^2/4\sigma^2} e^{ip_0x/\hbar}.$$



¹Husk at for en gitt bølgefunksjon $\psi(x)$ kan vi vha forventningsverdi-postulatet beregne $\langle x \rangle = \int \psi^* x \psi dx$, $\langle x^2 \rangle = \int \psi^* x^2 \psi dx$, $\langle p_x \rangle = \int \psi^* \hat{p}_x \psi dx$ og $\langle p_x^2 \rangle = \int \psi^* \hat{p}_x^2 \psi dx$, som er hva vi behøver for å beregne usikkerhetene $\Delta x = \sqrt{\langle x^2 \rangle - \langle x \rangle^2}$ og $\Delta p_x = \sqrt{\langle p_x^2 \rangle - \langle p_x \rangle^2}$.

²*Hvordan* en skal gå fram eksperimentelt for å preparere et ensemble av frie partikler slik at begynnelsestilstanden svarer til bølgefunksjonen $\Psi(x, 0)$ er ikke helt lett å forestille seg. I kvantemekanisk teori er det vanlig å anta at en i prinsippet står fritt til å preparere en hvilken som helst begynnelsestilstand for det aktuelle ensemblet, uten å bekymre seg om hvordan dette eventuelt kan gjennomføres i praksis. La oss likevel gjøre et forsøk, ved å anta at vi har en “partikkel-kanon” som skyter ut en partikkel som forlater kanonen ($x \approx 0$) ved $t = 0$, med en impuls $\approx p_0$. For å få et *ensemble* av slike partikler må vi gjenta eksperimentet mange ganger og nullstille klokka for hver avfiring, eventuelt sende ut en skur av partikler samtidig, ved $t = 0$. Et slikt ensemble må opplagt representeres av en bølgefunksjon i form av en bølgegruppe som følger partikkelskuren (i stedet for en uendelig lang harmonisk bølge), dersom sannsynlighetstolkningen skal kunne brukes.

Merk at bølgegruppen $\Psi(x, 0)$ er en harmonisk planbølge modulert med en Gauss-faktor. Den siste sørger for at $\Psi(x, 0)$ er kvadratisk integrerbar (i motsetning til den harmoniske planbølgen $\exp(ip_0x/\hbar)$ som vi har i de Broglie-bølgene). Ifølge postulat B (“tilstandspostulatet”) inneholder funksjonen $\Psi(x, 0)$ all den informasjonen om ensemblet (ved $t = 0$) som det er mulig å skaffe seg. Som et ledd i arbeidet med å “knekke den kvantemekaniske koden” skal vi nå se hvordan (noe av) denne informasjonen kan hentes ut:

a. Argumentér for at forventningsverdien av posisjonen x for denne tilstanden (ved $t = 0$) er lik null, og for at usikkerheten Δx er uavhengig av parameteren p_0 . Hint: Se på sannsynlighetstettheten $|\Psi(x, 0)|^2$. (Moralen er her at det lønner seg med litt oversikt; istedenfor bare å regne slavisk i vei.)³

b. Beregn Δx . Hint: For å spare litt arbeid med integrasjonene er det kanskje en fordel å innføre hjelpetørrelsen $\alpha = 1/2\sigma^2$, og merke seg Gauss-integralene

$$I_0(\alpha) \equiv \int_{-\infty}^{\infty} e^{-\alpha x^2} dx = \sqrt{\frac{\pi}{\alpha}}, \quad I_2(\alpha) \equiv \int_{-\infty}^{\infty} x^2 e^{-\alpha x^2} dx = -\frac{\partial I_0}{\partial \alpha} = \sqrt{\pi} \cdot \frac{1}{2} \alpha^{-3/2}, \quad \text{osv.}$$

(Jf fotnote til løsning av OPPGAVE 3.) Hva er den fysiske tolkningen av $\langle x \rangle$ og Δx , sett i forhold til en serie målinger av posisjonen x ?

c. Dersom parameteren σ velges veldig stor, er $\Psi(x, 0)$ praktisk talt en ren harmonisk planbølge. En harmonisk planbølge $\exp(ip_0x/\hbar)$ svarer som vi husker til en skarpt definert impuls, $p_x = p_0$. Hva tror du ut fra dette vil skje med forventningsverdien $\langle p_x \rangle$ og usikkerheten Δp_x når σ vokser mot uendelig?

d. Funksjonen $\Psi(x, 0)$ gir også et *nøyaktig svar* på spørsmålene i pkt. **c**: Bruk forventningsverdi-postulatet (C) til å *beregne* $\langle p_x \rangle$ og Δp_x (for vilkårlig p_0), og vis at usikkerhetsproduktet $\Delta x \cdot \Delta p_x$ faktisk har den minste verdien det kan ha ifølge Heisenbergs uskarphetsrelasjon, for alle σ og p_0 .

[Hint: Vis at

$$\hat{p}_x \Psi(x, 0) = (p_0 + i\hbar\alpha x) \Psi(x, 0) \quad \text{og} \\ \hat{p}_x^2 \Psi(x, 0) = [(p_0 + i\hbar\alpha x)^2 + \hbar^2\alpha] \Psi(x, 0), \quad \alpha = 1/2\sigma^2.$$

Vha disse vil du se at de integralene som dukker opp under beregningen av $\langle p_x \rangle$ og $\langle p_x^2 \rangle$ er normeringsintegralet samt integralene for $\langle x \rangle$ og $\langle x^2 \rangle$, som jo allerede er beregnet. Her er det altså igjen lurt å skaffe seg litt “matematisk oversikt”, i stedet for bare å regne i vei.]

Hva er den fysiske tolkningen av $\langle p_x \rangle$ og Δp_x , sett i forhold til en serie målinger av impulsen p_x ? Størrelsene $\langle p_x \rangle$ og Δp_x har sammenheng med *sannsynlighetsfordelingen for impulsen p_x* for den aktuelle tilstanden. Kan det tenkes at også denne sannsynlighetsfordelingen kan finnes fra funksjonen $\Psi(x, 0)$? [Hint: Hva sier tilstandspostulatet om slike spørsmål?]

e. Oppførselen til systemet vårt for $t > 0$ bestemmes av Schrödingerligningen for den frie partikkelen. Bølgegruppen vil da bevege seg. Du inviteres nå til å spekulere: Hvilken gruppehastighet tror du bølgegruppen $\Psi(x, t)$ vil få? [Hint: Tenk på partikkel-skuren fra “kanonen”.]

³Usikkerheten i x (også kalt spredningen eller standardavviket) er *rms-avviket* (root-mean-square deviation),

$$\Delta x = \sqrt{\langle (x - \langle x \rangle)^2 \rangle} = \dots = \sqrt{\langle x^2 \rangle - \langle x \rangle^2}.$$